

# 9. SINIF

## COĞRAFYA

### TAM İZLEME KİTABI



27.HAFTA

- BEŞERİ SİSTEMLER SÜREÇLER -

- NÜFUSLA İLGİLİ FIRSAT, SORUN VE POLİTİKALAR -

Adı :

Numara :

Doğru :

Yanlış :

Soyadı :

Sınıf :

Net :

|   |  | YANITLAR |   |   |   |   |   |    |   |   |   |   |   |
|---|--|----------|---|---|---|---|---|----|---|---|---|---|---|
| ■ |  | 01       | A | B | C | D | E | 16 | A | B | C | D | E |
| ■ |  | 02       | A | B | C | D | E | 17 | A | B | C | D | E |
| ■ |  | 03       | A | B | C | D | E | 18 | A | B | C | D | E |
| ■ |  | 04       | A | B | C | D | E | 19 | A | B | C | D | E |
| ■ |  | 05       | A | B | C | D | E | 20 | A | B | C | D | E |
| ■ |  | 06       | A | B | C | D | E | 21 | A | B | C | D | E |
| ■ |  | 07       | A | B | C | D | E | 22 | A | B | C | D | E |
| ■ |  | 08       | A | B | C | D | E | 23 | A | B | C | D | E |
| ■ |  | 09       | A | B | C | D | E | 24 | A | B | C | D | E |
| ■ |  | 10       | A | B | C | D | E | 25 | A | B | C | D | E |
| ■ |  | 11       | A | B | C | D | E | 26 | A | B | C | D | E |
| ■ |  | 12       | A | B | C | D | E | 27 | A | B | C | D | E |
| ■ |  | 13       | A | B | C | D | E | 28 | A | B | C | D | E |
| ■ |  | 14       | A | B | C | D | E | 29 | A | B | C | D | E |
| ■ |  | 15       | A | B | C | D | E | 30 | A | B | C | D | E |

| ÖĞRENCİ NO |   |   |   |   |   |   |   |   |   |
|------------|---|---|---|---|---|---|---|---|---|
| 0          | 0 | 0 | 0 | 0 | 0 | 0 | 0 | 0 | 0 |
| 1          | 1 | 1 | 1 | 1 | 1 | 1 | 1 | 1 | 1 |
| 2          | 2 | 2 | 2 | 2 | 2 | 2 | 2 | 2 | 2 |
| 3          | 3 | 3 | 3 | 3 | 3 | 3 | 3 | 3 | 3 |
| 4          | 4 | 4 | 4 | 4 | 4 | 4 | 4 | 4 | 4 |
| 5          | 5 | 5 | 5 | 5 | 5 | 5 | 5 | 5 | 5 |
| 6          | 6 | 6 | 6 | 6 | 6 | 6 | 6 | 6 | 6 |
| 7          | 7 | 7 | 7 | 7 | 7 | 7 | 7 | 7 | 7 |
| 8          | 8 | 8 | 8 | 8 | 8 | 8 | 8 | 8 | 8 |
| 9          | 9 | 9 | 9 | 9 | 9 | 9 | 9 | 9 | 9 |

Adı :

Soyadı :

**Tam Okul** uygulamasını kullanarak optik formları okutabilir, sonuçlarınızı değerlendirebilir ve video çözümlerine ulaşabilirsiniz.

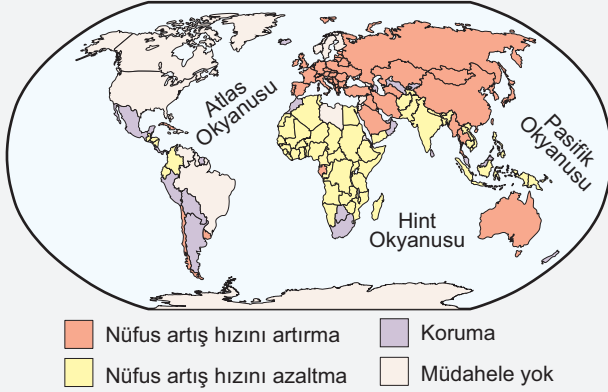
Aynı zamanda **Eğitim Vadisi Mobil** uygulamasını indirerek de video çözümlerine ulaşabilirsiniz.

Uygulamalarımızı **Google Play** veya **App Store**'dan indirebilirsiniz.



Etkinlik

A.



Yukarıdaki haritada 2015 yılı itibarıyla dünyada uygulanan nüfus politikalarının dağılımı (UN DESA) gösterilmiştir. Ön bilgilerinizin yanı sıra haritadan da yararlanarak aşağıdaki soruları cevaplayınız.

- Haritaya göre, nüfus artış hızını artırmaya yönelik politika uygulayan ülkeler hangi kıtalarda yoğunlaşmıştır? Neden bu kıtalarda bu tür politikaların uygulandığını tartışınız.

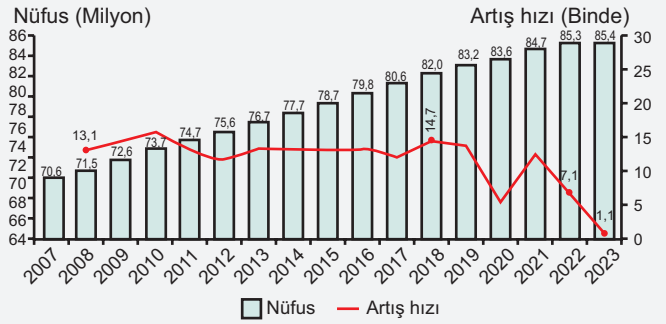
*Nüfus artış hızını artırmaya yönelik politika uygulayan ülkeler genellikle Avrupa, Asya ve Okyanusya kıtalarında yoğunlaşmıştır. Bu kıtalarda yaşanan nüfus, düşük doğum oranları ve iş gücü eksikliği gibi demografik sorunlar bu politikaların uygulanmasına neden olmaktadır.*

- Haritada nüfus artış hızını artırma politikası uygulayan bir ülkenin karşılaşılabileceği sosyal ve ekonomik zorlukları analiz ediniz.

*Nüfus artış hızını artırma politikası uygulayan bir ülke sosyal olarak artan nüfusun getirdiği konut, eğitim ve sağlık hizmetleri talebiyle karşılaşabilir.*

*Ekonomik zorluklar arasında işsizlik oranlarının artması ve ekonomik kaynakların yetersiz kalması sayılabilir.*

- Aşağıdaki grafiğe göre, Türkiye'nin nüfus artış hızının 2007 - 2023 yılları arasındaki değişimini açıklayınız. Bu değişimin nüfus politikaları ile ilişkisini değerlendiriniz.



*Türkiye'nin nüfus artış hızı 2007-2023 yılları arasında belirgin dalgalanmalar göstermiştir. Bu değişim, özellikle 2013 sonrası teşvik politikaları ile ilişkilendirilebilir. Ailelerin çocuk sahibi olmasını teşvik eden politikalar ve ekonomik destekler artışa neden olmuştur. Fakat 2021 yılından sonra artış hızında bir azalma sürecine girilmiştir. Nüfusun artırılmasına yönelik politikalar maalesef çok etkili olamamakta bu nedenle ülke nüfusu yaşlanmakta, aktif özelliğini yavaş bir şekilde kaybetmeye başlamıştır.*

- Hindistan'ın nüfus artış hızını azaltmaya yönelik politikalarının eğitim ve sağlık hizmetlerine olan etkilerini yorumlayınız. Bu politikaların ekonomik gelişmeye katkılarını tartışınız.

*Hindistan'ın nüfus artış hızını azaltma politikaları, eğitim ve sağlık hizmetlerine erişimi artırmıştır.*

*Aile planlaması ve sağlık hizmetlerinin yaygınlaşması doğum oranlarını düşürmüştür.*

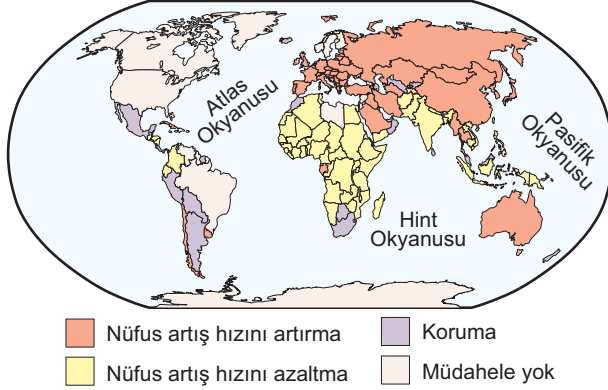
*Eğitim seviyesinin yükselmesi, kadınların iş gücüne katılımını artırarak ekonomik gelişmeye katkı sağlamıştır.*

- 2000 sonrası dönemde Türkiye'nin nüfus politikalarının ana hedeflerini belirtiniz. Bu dönemde uygulanan teşvik programlarının kısa ve uzun vadeli etkilerini değerlendiriniz.

*2000 sonrası dönemde, Türkiye'nin nüfus politikalarının ana hedefi doğum oranlarının artırılması ve genç nüfus yapısının korunması olmuştur.*

*Uygulanan teşvik programları, doğum oranlarının artmasına ve genç nüfus oranının korunmasına katkı sağlamıştır.*

Aşağıdaki haritada 2015 yılı itibarıyla dünyada uygulanan nüfus politikalarının dağılımı (UN DESA) gösterilmiştir.



1 - 3. soruları yukarıdaki görsele göre cevaplandırınız.

1. Aşağıda verilen ülkelerden hangisi nüfus artış hızını azaltmaya yönelik politikalar uygulamaktadır?

- A) Hindistan      B) Türkiye      C) Almanya  
D) Çin              E) Avustralya

2. Haritada nüfus artış hızını artırma politikası uygulayan ülkeler kırmızı renkle gösterilmiştir.

**Bu ülkelerden birinin, nüfus politikasının başarıya ulaşması halinde karşılaşılabileceği sosyal ve ekonomik zorluklardan hangisi doğrudur?**

- A) Yaşlanan nüfus sorunu  
B) Kaynak yetersizliği  
C) Artan konut talebi  
D) İş gücünde daralma  
E) Eğitim hizmetlerine olan talebin azalması

3. Haritaya göre aşağıdaki ülkelerden hangisi izlediği nüfus politikasında başarılı olursa gelecekte genç iş gücünün azalmasıyla sosyal güvenlik gelirlerinde azalma ve azalan çocuk nüfusu nedeniyle eğitim kurumlarına olan talebin düşmesi sorunlarını yaşaması beklenir?

- A) Fransa              B) Mısır              C) İran  
D) Türkiye            E) Rusya Federasyonu

4. Japonya'nın nüfus artış hızını artırma politikaları arasında hangisi **yer almaz**?

- A) Doğum ve çocuk bakım masraflarının devlet tarafından desteklenmesi  
B) Çalışan kadınlar için daha esnek ve aile dostu çalışma koşullarının oluşturulması  
C) Yabancı iş gücünün ülkeye çekilmesi ve entegrasyonunun kolaylaştırılması  
D) Aile planlaması hizmetlerinin ücretsiz veya düşük maliyetli olarak sunulması  
E) Ebeveynlere yönelik çocuk bakım desteğinin sağlanması

5. Aşağıdaki ülkelerin nüfus politikaları ile ilgili verilen bilgilerden hangisi **yanlıştır**?

- A) Çin: Tek çocuk politikası, aşırı nüfus artışını kontrol altına almak için uygulanmıştır. Bu politikanın etkilerinden biri cinsiyet dengesizliğinin ortaya çıkmasıdır. O nedenle tekrar artış politikasına geri dönmüştür.  
B) Almanya: Nüfus artışını teşvik eden politikalar, yaşlanan nüfus ve iş gücü açığı gibi sorunlarla başa çıkmak için uygulanmaktadır. Bu politikaların bir etkisi göçmen iş gücüne olan bağımlılığın artmasıdır.  
C) Hindistan: Nüfus artış hızını azaltma politikaları, sağlık hizmetlerinin geliştirilmesi ve eğitim seviyesinin artırılması gibi önlemlerle desteklenmektedir. Bu politikaların bir etkisi, yoksulluk oranlarının düşmesidir.  
D) Türkiye: 2005 sonrası dönemde uygulanan politikalarla nüfus artış hızının düşürülmesi hedeflenmiştir. Bu politikaların bir etkisi, doğum oranlarının azalmasıdır.  
E) Japonya: Nüfus artış hızını artırmak için çocuk bakım hizmetlerinin artırılması ve ekonomik teşviklerin sağlanması gibi politikalar uygulanmaktadır. Bu politikaların bir etkisi, genç nüfus oranının artmasıdır.

6. Türkiye’de 1923 – 1960 yılları arasında nüfus artış hızını yükseltmeye yönelik politikalar izlenmiştir.

**Bu durumun nedenleri arasında aşağıdakilerden hangisi yoktur?**

- A) Ülkenin genç bir nüfus yapısına sahip olmasının istenmesi  
B) Tarımsal üretimin artırılması hedefi  
C) Sanayileşmenin hızlandırılması amacı  
D) Ekonomik kalkınmanın desteklenmesi  
E) Nüfus yoğunluğunun düşüklüğünün ekonomik avantaj sağlaması

7. Aşağıdaki ülkelerden hangisinin nüfus politikası, genç nüfus oranını artırmayı hedeflemektedir?

- A) Avustralya  
B) Mısır  
C) Brezilya  
D) Pakistan  
E) Bangladeş

8. Ülkelerin nüfus miktarı ve artış hızları ile ekonomik kalkınma düzeyleri dikkate alındığında hangisinin nüfus artış hızını düşürücü yönde politika uygulaması beklenir?

- A) ABD  
B) Avustralya  
C) Fransa  
D) Türkiye  
E) Endonezya

9. Türkiye’nin 1960 - 1980 yılları arasındaki izlediği nüfus politikaları hakkında verilen bilgilerden hangisi yanlıştır?

- A) Aile planlaması kampanyaları başlatılmıştır.  
B) Doğum kontrol yöntemleri yaygınlaştırılmıştır.  
C) Nüfus artış hızını artırma hedeflenmiştir.  
D) Hızla artan nüfusun kontrol altına alınması amaçlanmıştır.  
E) Planlı büyüme sağlanmak istenmiştir.



### Cevap Anahtarı

1.A 2.C 3.B 4.D 5.D 6.E 7.A 8.E 9.C



### Yazılı Sınav

1. Türkiye’nin 1923 - 1960 yılları arasındaki nüfus politikalarını açıklayınız. Bu dönemde nüfus artış hızını artırmaya yönelik uygulanan politikaların dayanak noktalarını ve bu politikaların toplumsal etkilerini yazınız.

1923-1960 yılları arasında Türkiye, genç bir nüfus yapısı oluşturmak ve savaşlar ile nüfus kaybını telafi etmek amacıyla nüfus artış hızını artırmaya yönelik politikalar izlemiştir. Bu dönemde uygulanan politikaların dayanak noktaları şunlardır:

- Genç bir nüfus yapısı oluşturmak
- Tarımsal üretimi artırmak
- Ekonomik kalkınmayı desteklemek
- Millî güvenliği sağlamak

Bu politikalar kapsamında sağlık hizmetleri iyileştirilmiş, annelik ve çocuk sağlığına yönelik hizmetler artırılmış ve çok çocuk sahibi olmayı teşvik eden sosyal ve ekonomik destekler sağlanmıştır. Toplumsal etkileri arasında doğum oranlarının artması, genç nüfus oranının yükselmesi ve kırsal alanlardaki nüfusun büyümesi bulunmaktadır. Ancak, hızlı nüfus artışı, eğitim ve sağlık hizmetlerine olan talebin artmasına ve bu alanlarda yetersizliklerin ortaya çıkmasına da neden olmuştur.

2. Çin’in tek çocuk politikasının uygulanma nedenleri ve bu politikanın uzun vadeli sosyal ve demografik etkilerini analiz ediniz. Çin’in bu politika sonrası karşılaştığı sorunları ve bu sorunlara karşı aldığı önlemleri açıklayınız.

Çin’in tek çocuk politikası 1979 yılında, aşırı nüfus artışını kontrol altına almak ve kaynakların sürdürülebilir kullanımını sağlamak amacıyla uygulanmaya başlanmıştır. Bu politikanın dayanak noktaları şunlardır:

- Aşırı nüfus artışını durdurmak
- Ekonomik kalkınmayı sürdürülebilir hale getirmek
- Kaynakların daha verimli kullanılmasını sağlamak

Uzun vadeli sosyal ve demografik etkileri arasında cinsiyet dengesizliği, yaşanan nüfus ve iş gücü daralması bulunmaktadır. Tek çocuk politikası, birçok ailenin erkek çocuk tercihine yönelmesine ve dolayısıyla cinsiyet oranlarında dengesizliklere yol açmıştır. Ayrıca, doğum oranlarının düşmesiyle birlikte nüfusun yaşlanması hızlanmış ve ekonomik büyümeyi sürdürülebilir kılmak için yeterli iş gücünün sağlanmasında zorluklar ortaya çıkmıştır.

Bu sorunlarla başa çıkmak için Çin, 2016 yılında iki çocuk politikasını uygulamaya koymuş ve ailelerin iki çocuk sahibi olmasına izin vermiştir. Ayrıca, ailelere çocuk bakım desteği ve ekonomik teşvikler sağlanarak doğum oranlarının artırılması hedeflenmiştir.