

# 9. SINIF COĞRAFYA TAM İZLEME KİTABI



2.ARA TATİL

- TARAMA FÖYÜ-

- TARAMA FÖYÜ-

Adı :

Numara :

Doğru :

Soyadı :

Sınıf :

Yanlış :

Net :



ÖĞRENCİ NO

0	0	0	0	0	0
1	1	1	1	1	1
2	2	2	2	2	2
3	3	3	3	3	3
4	4	4	4	4	4
5	5	5	5	5	5
6	6	6	6	6	6
7	7	7	7	7	7
8	8	8	8	8	8
9	9	9	9	9	9

YANITLAR

01 (A B C D E)	16 (A B C D E)	31 (A B C D E)	46 (A B C D E)	61 (A B C D E)
02 (A B C D E)	17 (A B C D E)	32 (A B C D E)	47 (A B C D E)	62 (A B C D E)
03 (A B C D E)	18 (A B C D E)	33 (A B C D E)	48 (A B C D E)	63 (A B C D E)
04 (A B C D E)	19 (A B C D E)	34 (A B C D E)	49 (A B C D E)	64 (A B C D E)
05 (A B C D E)	20 (A B C D E)	35 (A B C D E)	50 (A B C D E)	65 (A B C D E)
06 (A B C D E)	21 (A B C D E)	36 (A B C D E)	51 (A B C D E)	66 (A B C D E)
07 (A B C D E)	22 (A B C D E)	37 (A B C D E)	52 (A B C D E)	67 (A B C D E)
08 (A B C D E)	23 (A B C D E)	38 (A B C D E)	53 (A B C D E)	68 (A B C D E)
09 (A B C D E)	24 (A B C D E)	39 (A B C D E)	54 (A B C D E)	69 (A B C D E)
10 (A B C D E)	25 (A B C D E)	40 (A B C D E)	55 (A B C D E)	70 (A B C D E)
11 (A B C D E)	26 (A B C D E)	41 (A B C D E)	56 (A B C D E)	71 (A B C D E)
12 (A B C D E)	27 (A B C D E)	42 (A B C D E)	57 (A B C D E)	72 (A B C D E)
13 (A B C D E)	28 (A B C D E)	43 (A B C D E)	58 (A B C D E)	73 (A B C D E)
14 (A B C D E)	29 (A B C D E)	44 (A B C D E)	59 (A B C D E)	74 (A B C D E)
15 (A B C D E)	30 (A B C D E)	45 (A B C D E)	60 (A B C D E)	75 (A B C D E)

1. Muson iklimi ile ilgili olarak,

- I. Teak ağacı bu iklim tipinin karakteristik ağaç türüdür.
- II. Yıllık harekete bağlı rüzgârların yön değiştirmesi sonucunda ortaya çıkmıştır.
- III. Yağış rejimi düzensizdir.

özelliklerinden hangileri doğrudur?

- A) Yalnız II      B) I ve II      C) I ve III  
D) II ve III      E) I, II ve III

2. Göktürk Bey, coğrafya dersinde iklimleri üç temel kuşak içinde ele almış ve buna yönelik bir tablo yapmıştır.

İklim tipleri	Sıcak iklimler	Ilıman iklimler	Soğuk iklimler
Tundra			✓
Savan	✓		
Muson	✓		
Sert Karasal			✓
Akdeniz		✓	

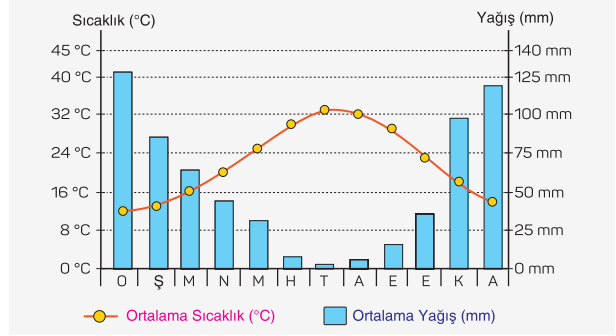
Bu sınıflandırmada hangi iklim tipi yanlış eşleştirilmiştir?

- A) Tundra iklimi      B) Savan iklimi  
C) Muson iklimi      D) Sert Karasal iklim  
E) Akdeniz iklim

3. Aşağıdaki ülkelerden hangisinin Tundra iklim bölgesi içerisinde arazisi bulunmaz?

- A) Kanada      B) Macaristan      C) Norveç  
D) Rusya Federasyonu      E) İzlanda

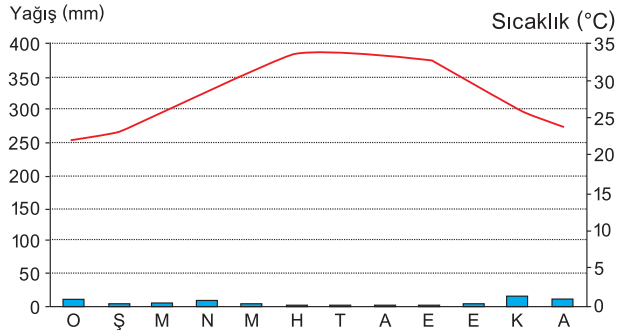
4. Aşağıda bir bölgenin aylık sıcaklık ve yağış değerleri verilmiştir.



Buna göre haritada numaralandırılan yerlerin hangisi verilen iklim grafiğinin yaşandığı bölgeler arasında yer alır?

- A) I      B) II      C) III      D) IV      E) V

5.



Yukarıda yıllık sıcaklık ve yağış grafiği verilen yer ile ilgili olarak;

- I. Sıcak kuşakta yer alır.
- II. Güney Yarım Küre'de yer alır.
- III. Bitki örtüsü stepdir.

bilgilerinden hangileri doğrudur?

- A) Yalnız I      B) Yalnız II      C) I ve II  
D) I ve III      E) II ve III

6. • Sıcaklık ortalaması, 15°C civarında olur ve yıllık sıcaklık farkı 10°C civarındadır.
- Yıllık toplam yağış miktarı, ortalama 1.500 mm civarında olup yağış yıl içine düzenli dağılmıştır.
- Doğal bitki örtüsü, alçak kıyı kuşağında kışın yaprağını döken ormanlar, iç ve yüksek kesimlerde önce karışık ormanlar daha yükseklerde ise iğne yapraklı ormanlardır.



Yukarıda özellikleri verilen iklim tipi haritadaki numaralandırılarak gösterilen merkezlerin hangisinde görülür?

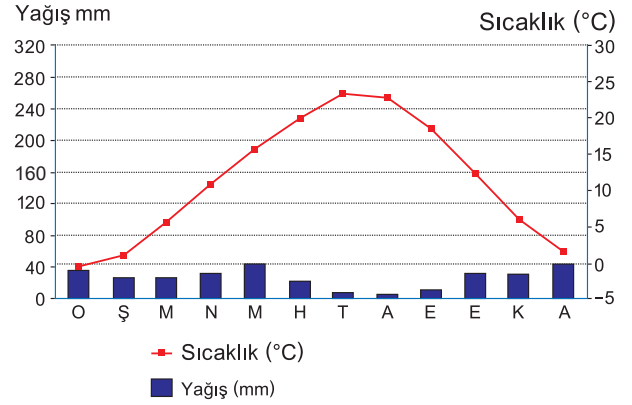
- A) I B) II C) III D) IV E) V

7. Haritada numaralandırılarak verilen yerlerin iklim özellikleri hakkında aşağıdakilerden hangisi söylenemez?



- A) IV numaralı yerde oluşan yağışlar genelde orografik oluşumludur.
- B) Temmuz ayı ortalama sıcaklık değeri en yüksek olan III numaralı yerdir.
- C) Verilen yerlerden iki tanesi Akdeniz İklim Bölgesi'nde yer almaktadır.
- D) Kış sıcaklık ortalaması en düşük olan V numaralı yerdir.
- E) I numaralı yer kar yağışı ve don olayının en az görüldüğü yerlerden biridir.

8. Aşağıdaki grafikte Türkiye'de etkili olan bir iklim tipinin sıcaklık ve yağış değerleri gösterilmiştir.



Bu bölge ile ilgili olarak aşağıdakilerden hangisi söylenemez?

- A) Bitki örtüsü, bozkırdır.
- B) Yaz kuraklığı belirgindir.
- C) Yağış rejimi düzensizdir.
- D) Don olayları etkisizdir.
- E) Yağışlı gün sayısı azdır.

9. Aşağıda bir gezgin olan ve dünya turuna çıkmayı planlayan Ali'nin ziyaret edeceği bölgeler ve bu bölgelerin iklim özellikleri tabloda karışık olarak verilmiştir.

BÖLGELER	İKLİM ÖZELLİKLERİ
1. Hindistan'ın güney kıyıları	K. Yazları sıcak ve kurak, kışları ılık ve yağışlı.
2. Norveç'in kuzey kıyıları	L. Yazları çok yağışlı, kışları kurak ve serin.
3. İtalya'nın güney kıyıları	M. Yazları serin ve kısa, kışları uzun ve çok soğuk.

Ali'nin ziyaret edeceği bölgelerin ve bu bölgelerin iklim özelliklerinin doğru olarak eşleştirilmesi aşağıdakilerin hangisinde doğru olarak verilmiştir?

- A) 1 - L, 2 - M, 3 - K
- B) 1 - M 2 - L, 3 - K
- C) 1 - K, 2 - L, 3 - M
- D) 1 - L, 2 - K, 3 - M
- E) 1 - M, 2 - K, 3 - L

10. Son yıllarda küresel ölçekte iklim sisteminde yaşanan değişimlerin çeşitli örnekleri bulunmaktadır.

**Aşağıdaki ifadelerden hangisi, küresel iklim değişikliklerine ilişkin doğru bir örnek değildir?**

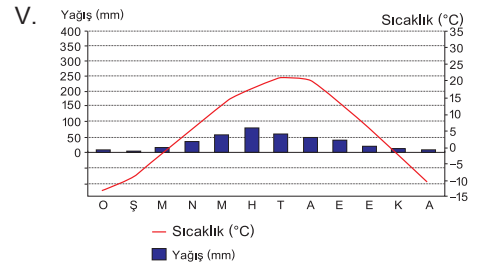
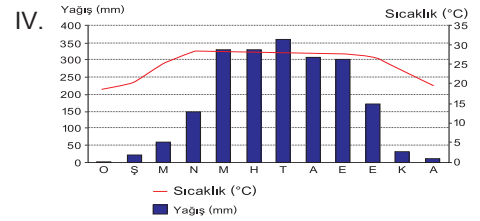
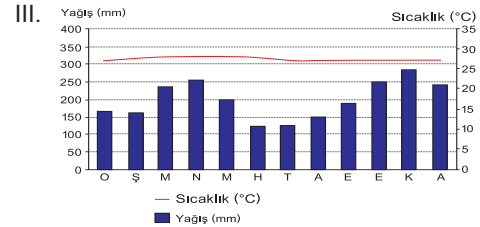
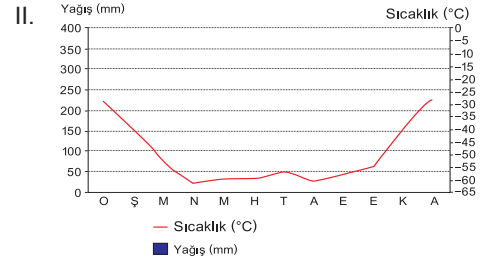
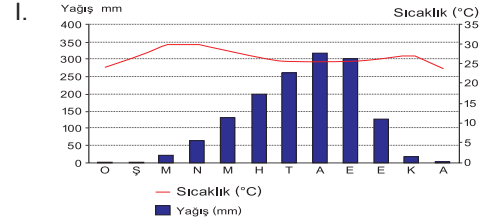
- A) Arktik bölgesinde buzulların erimesi  
B) Ilıman karasal bölgelerde kar yağışlarının gerçekleşmesi  
C) Tropikal bölgelerde kasırgaların sıklığının artması  
D) Çölleşmenin artması ve tarım arazilerinin kaybı  
E) Okyanusların su seviyesinin yükselmesi

11. “Ahmet, yaz tatilinde Türkiye'nin üç farklı bölgesini ziyaret etmeye karar verir. İlk olarak, sıcak ve kurak yaz günlerinin keyfini çıkarabileceği, kışın ise yağışlı ve ılık havanın olduğu bir yere gider. Ardından, yıl boyunca yağış alan ve her mevsim ılıman olan bir bölgeye geçer. Son olarak, yazları sıcak ve kurak, kışları ise soğuk ve kar yağışlı olan bir bölgeyi ziyaret eder.”

**Buna göre Ahmet'in bu iklim olaylarını yaşadığı kentler aşağıdakilerin hangisinde doğru olarak sıralanmıştır?**

- A) İlk olarak Antalya'ya gider, ardından Trabzon'a ve son olarak Erzurum'a geçer.  
B) İlk olarak Erzurum'a gider, ardından Antalya'ya ve son olarak Trabzon'a geçer.  
C) İlk olarak Trabzon'a gider, ardından Erzurum'a ve son olarak Antalya'ya geçer.  
D) İlk olarak Antalya'ya gider, ardından Erzurum'a ve son olarak Trabzon'a geçer.  
E) İlk olarak Trabzon'a gider, ardından Antalya'ya ve son olarak Erzurum'a geçer.

12. Aşağıda bazı iklim tiplerinin sıcaklık ve yağış grafikleri verilmiştir.



**Bu grafiklerden hangisinin ait olduğu iklim tipi aşağıda doğru verilmiştir?**

- A) I. Muson iklimi  
B) II. Tundra iklimi  
C) III. Ilıman okyanusal iklim  
D) IV. Savan iklimi  
E) V. Sert karasal iklim

13. Aşağıdaki ifadelerden hangisi, geçmişten günümüze iklim sisteminde görülen değişimler, nedenleri ve sonuçları ile ilgili yanlış bir bilgiyi içermektedir?

- A) Sanayi Devrimi'nden sonra atmosferdeki sera gazı birikiminde önemli bir artış gözlemlenmiştir.
- B) 20. yüzyılın ikinci yarısından itibaren küresel sıcaklıklar hızla artmaya başlamıştır.
- C) Atmosferdeki karbondioksit (CO<sub>2</sub>) seviyelerinin artışı, fosil yakıtların yoğun şekilde kullanılmasının bir sonucudur.
- D) Küresel iklim değişikliği, yalnızca doğal süreçlerden kaynaklanmaktadır.
- E) Deniz seviyelerinin yükselmesi, buzulların erimesi ve termal genleşme gibi süreçlerin bir sonucudur.

14. Aşağıdaki ifadelerden hangisi, iklim değişikliklerinin ekosistem ve biyoçeşitlilik üzerindeki etkilerine ilişkin doğru bir bilgi içermektedir?

- A) İklim değişikliği, yalnızca karasal ekosistemleri etkiler, deniz ekosistemlerine etkisi yoktur.
- B) Sıcaklık artışı, bazı türlerin göç yollarını değiştirmelerine neden olabilir.
- C) İklim değişikliği, biyoçeşitlilik üzerinde herhangi bir olumsuz etki yapmaz.
- D) İklim değişikliği nedeniyle bitki türlerinin dağılım alanları genişlerken, hayvan türlerinin dağılım alanları daralmaktadır.
- E) İklim değişikliği, sadece tropikal bölgelerde biyoçeşitlilik üzerinde etkili olur.

15. Aşağıdaki ifadelerden hangisi, küresel iklim değişikliklerinin gelecekte doğal ve beşerî faaliyetler üzerindeki olası etkilerinden biri değildir?

- A) Tarımda kuraklık ve su kıtlığı nedeniyle verimlilikte verimliliğin azalması
- B) Deniz seviyesinin yükselmesiyle kıyı bölgelerinin daralması
- C) Artan sıcaklıkların enerji talebini ve soğutma maliyetlerini azaltması
- D) İklim göçleri nedeniyle şehirlerin nüfus yoğunluğunun değişmesi
- E) Tatlı su kaynaklarının azalması ve su kıtlığının artması

16. Küresel iklim değişikliğinin etkilerini azaltmak ve iklim değişimine karşı dirençli bir dünya oluşturmak amacıyla çeşitli önlemler alınabilir.

Aşağıdakilerden hangisi bu önlemlerden biri değildir?

- A) Orman alanlarını yapılaşmaya açmak
- B) Yenilenebilir enerji kaynaklarının kullanımını artırmak
- C) Enerji verimliliğini artırmak
- D) Sera gazı emisyonlarını azaltmak
- E) Atık yönetimini iyileştirmek ve geri dönüşümü teşvik etmek

17. Nüfusun cinsiyet yapısı, belirli bir alanda yaşayan erkek ve kadın sayısının oranını ifade eder.

Aşağıdaki ifadelerden hangisi, nüfusun cinsiyet yapısını etkileyen faktörlerden biri değildir?

- A) Nüfus politikaları
- B) Göç hareketleri
- C) Askeri kuruluşlar
- D) Eğitim seviyesinin yükselmesi
- E) Savaş ve çatışmalar

18. Harita üzerinde iki farklı ülke numaralandırılarak gösterilmiştir.



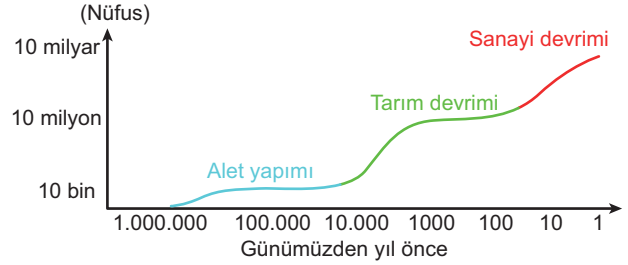
Bu ülkelerin nüfus yapısı ve gelişmişlik düzeyleri dikkate alındığında, aşağıdaki ifadelerden hangisi doğrudur?

- A) I numaralı ülkede çocuk bağımlı nüfus oranı, II numaralı ülkeden daha yüksektir.
- B) II numaralı ülkede ortanca yaş, I numaralı ülkeden daha yüksektir.
- C) II numaralı ülkede doğurganlık oranı, I numaralı ülkeden daha yüksektir.
- D) I numaralı ülkede yaşlı bağımlı nüfus oranı, II numaralı ülkeden daha düşüktür.
- E) II numaralı ülkede hizmet sektöründe çalışan nüfus oranı, I numaralı ülkeden daha yüksektir.

19. Aşağıdakilerden hangisi nüfus sayımlarının temel amaçlarından biri değildir?

- A) Eğitim ve sağlık hizmetlerinin planlanması
- B) Doğal afet risklerinin azaltılması
- C) Seçmen kütüklerinin güncellenmesi
- D) Sosyal ve ekonomik politikaların oluşturulması
- E) Alt yapı ve ulaşım planlamalarının yapılması

20. Aşağıda 3 ana sıçrama döneminde dünya nüfusundaki genel değişim grafik olarak gösterilmiştir.



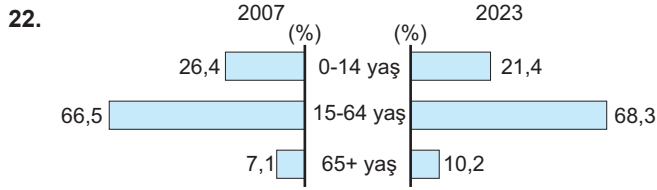
Buna göre, dünya nüfusunun tarihî dönemler içerisindeki değişimi ve bu değişime etki eden faktörlerle ilgili aşağıdaki ifadelerden hangisi yanlıştır?

- A) Alet yapımı dönemi sırasında dünya nüfusu diğer dönemlere göre daha yavaş bir sıçrama göstermiştir.
- B) Tarım Devrimi, dünya nüfusunun hızlı bir şekilde artmasına neden olmuştur.
- C) Sanayi Devrimi'nden sonra dünya nüfusu dramatik bir artış göstermiştir.
- D) Alet yapımı döneminin dünya nüfusu üzerinde Sanayi Devrimi'ne göre daha büyük bir etkisi olmuştur.
- E) Grafik, dünya nüfusunun 1.000.000 yıl öncesinden günümüze kadar olan değişimini göstermektedir.

21. Doğumların ölümlerden fazla olması sonucu meydana gelen nüfus artışına doğal nüfus artışı, doğal nüfus artışına ek olarak göçlerin etkisiyle meydana gelen nüfus artışına da gerçek nüfus artışı denir.

Buna göre, aşağıdaki ülkelerden hangisinde doğal nüfus artışı daha yüksektir?

- A) İsviçre
- B) Hollanda
- C) Almanya
- D) Japonya
- E) Yunanistan



Yukarıdaki grafiğe göre, 2007 ve 2023 yılları arasındaki Türkiye nüfusunun yaş gruplarına göre dağılımı incelendiğinde, aşağıdaki ifadelerden hangisi doğrudur?

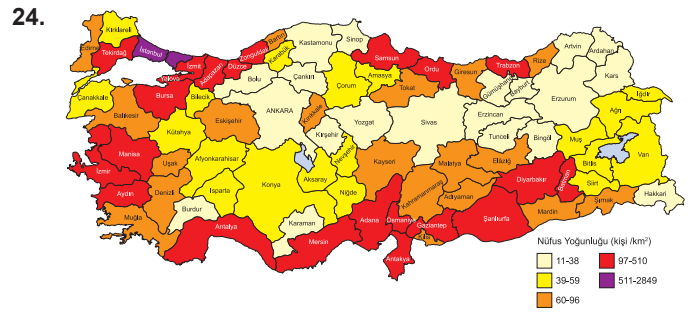
- A) 0-14 yaş grubunun oranı 2007'den 2023'e kadar artmıştır.
- B) 15-64 yaş grubunun oranı 2007'den 2023'e kadar azalmıştır.
- C) 65+ yaş grubunun oranı 2007'den 2023'e kadar artmıştır.
- D) 15-64 yaş grubunun oranı 2007'de 66,5 iken, 2023'te 67,5 olmuştur.
- E) 0-14 yaş grubunun oranı 2007'de 21,4 iken, 2023'te 26,4 olmuştur.

23. Aşağıda ülkelerin gelişmişlik durumlarına göre nüfuslarının yaş yapısı ile ilgili bilgiler verilmiştir.

- I. Gelişmiş ülkelerde ortanca yaş genellikle daha yüksektir.
- II. Geri kalmış ülkelerde çocuk bağımlı nüfus oranı daha yüksektir.
- III. Gelişmiş ülkelerde yaşlı bağımlı nüfus oranı daha düşüktür.
- IV. Geri kalmış ülkelerde bağımlı nüfus oranı, toplam nüfusun önemli bir kısmını oluşturur.
- V. Gelişmiş ülkelerde yaşlı nüfusun sağlık ve sosyal güvenlik sistemlerine yükü daha fazladır.

Buna göre yukarıdaki ifadelerden hangileri doğrudur?

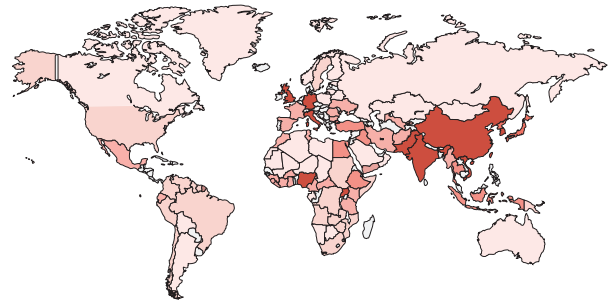
- A) I, II ve IV      B) I, III ve V      C) II, III ve IV  
D) I, II, IV ve V      E) I, II, III, IV ve V



Yukarıdaki Türkiye nüfus yoğunluğu haritasına göre, aşağıdaki ifadelerden hangisi yanlıştır?

- A) İstanbul, Türkiye'nin en yüksek nüfus yoğunluğuna sahip ilidir.
- B) Güneydoğu Anadolu Bölgesi'nde bazı iller yüksek nüfus yoğunluğuna sahiptir.
- C) Doğu Anadolu Bölgesi'nde nüfus yoğunluğu genellikle yüksektir.
- D) Ege Bölgesi'nde nüfus yoğunluğu, Doğu Anadolu Bölgesi'ne göre daha yüksektir.
- E) İç Anadolu Bölgesi'nde nüfus yoğunluğu genellikle düşüktür.

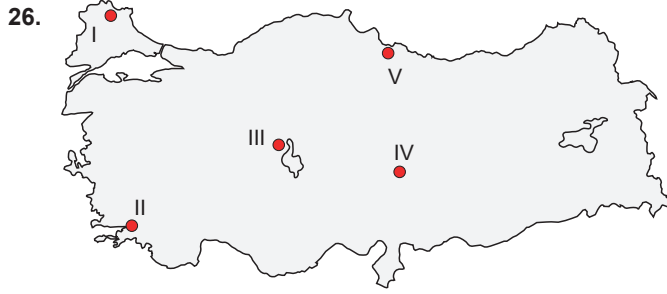
25. Aşağıdaki haritada Dünya nüfusunun dağılışı renklendirilerek gösterilmiştir.



Haritaya göre, nüfusun yeryüzüne dağılışını etkileyen etmenler arasında hangisi yanlıştır?

- A) İklim şartları
- B) Doğal kaynakların varlığı
- C) Ekonomik faaliyetlerin yoğunluğu
- D) Siyasi sınırlar
- E) Ulaşım olanakları





Harita üzerinde numaralandırılarak verilen yerlerin hangisi turizm faaliyetleri nedeniyle diğerlerine göre daha fazla mevsimlik göç almaktadır?

- A) I B) II C) III D) IV E) V

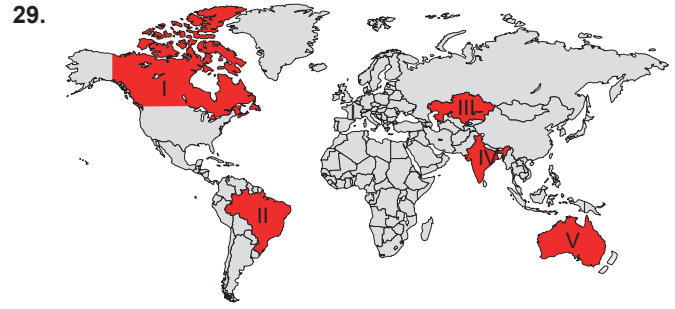
27. Gelişmiş ülkelerde nüfus artış hızının az olması, genç nüfus yapısının ve nüfusa ait dinamik özelliklerin kaybolmasına neden olurken yaşlı nüfus oranı da hızlı bir şekilde artar. Bu durum, başta iş gücü olmak üzere çeşitli problemleri beraberinde getirir. Ülkeler bu sorunu çözebilmek için diğer ülkelerden iş gücü talep eder.

Buna göre aşağıda verilen ülkelerin hangisinde iş gücü açığı daha fazladır?

- A) Cezayir B) İngiltere C) Peru  
D) Pakistan E) Bulgaristan

28. Aşağıdaki ifadelerden hangisi, göçlerin doğrudan mekânsal etkilerinden biri değildir?

- A) Göç alan bölgelerde nüfus yoğunluğunun artması  
B) Göç alan bölgelerde alt yapı hizmetlerinin yetersiz kalması  
C) Göç veren bölgelerde nüfusun azalması  
D) Göç alan bölgelerde konut talebinin artması  
E) Göçlerin gerçekleştiği bölgelerde iklimin değişmesi



Harita üzerinde numaralandırılarak gösterilen alanların hangileri diğerlerine göre daha fazla beyin göçü almaktadır?

- A) I ve II B) I ve V C) II ve III  
D) III ve IV E) IV ve V

30. Türkiye'de özellikle 1950'li yıllarda kırsal alanlardan kentlere doğru göçlerin artmasında;

- I. kırsal alanlarda tarım alanlarına makinelerin gelmesi sonucu insan gücüne gereksinimin azalması,
- II. sulama projelerinin devreye girmesi sonucu tarımsal verimliliğin artması,
- III. sanayileşmenin hızlanmasıyla kentlerde iş gücüne duyulan ihtiyacın artması

durumlarından hangileri etkili olmuştur?

- A) Yalnız I B) Yalnız II C) I ve II  
D) I ve III E) I, II ve III



**Cevap Anahtarı**

1.E	2.D	3.B	4.C	5.A	6.C	7.C	8.D	9.A	10.B
11.A	12.E	13.D	14.B	15.C	16.A	17.D	18.C	19.B	20.D
21.E	22.C	23.D	24.C	25.D	26.B	27.B	28.E	29.B	30.D