

9. SINIF

COĞRAFYA

TAM İZLEME KİTABI



18. HAFTA

- DOĞAL SİSTEMLER VE SÜREÇLER -

- İKLİM TÜRLERİ-2-

Soğuk iklimler - Türkiye'de İklim Türleri

Adı :

Numara :

Doğru :

Yanlış :

Soyadı :

Sınıf :

Net :

		YANITLAR											
■		01	A	B	C	D	E	16	A	B	C	D	E
■		02	A	B	C	D	E	17	A	B	C	D	E
■		03	A	B	C	D	E	18	A	B	C	D	E
■		04	A	B	C	D	E	19	A	B	C	D	E
■		05	A	B	C	D	E	20	A	B	C	D	E
■		06	A	B	C	D	E	21	A	B	C	D	E
■		07	A	B	C	D	E	22	A	B	C	D	E
■		08	A	B	C	D	E	23	A	B	C	D	E
■		09	A	B	C	D	E	24	A	B	C	D	E
■		10	A	B	C	D	E	25	A	B	C	D	E
■		11	A	B	C	D	E	26	A	B	C	D	E
■		12	A	B	C	D	E	27	A	B	C	D	E
■		13	A	B	C	D	E	28	A	B	C	D	E
■		14	A	B	C	D	E	29	A	B	C	D	E
■		15	A	B	C	D	E	30	A	B	C	D	E

ÖĞRENCİ NO									
0	0	0	0	0	0	0	0	0	0
1	1	1	1	1	1	1	1	1	1
2	2	2	2	2	2	2	2	2	2
3	3	3	3	3	3	3	3	3	3
4	4	4	4	4	4	4	4	4	4
5	5	5	5	5	5	5	5	5	5
6	6	6	6	6	6	6	6	6	6
7	7	7	7	7	7	7	7	7	7
8	8	8	8	8	8	8	8	8	8
9	9	9	9	9	9	9	9	9	9

Adı :

Soyadı :

Tam Okul uygulamasını kullanarak optik formları okutabilir, sonuçlarınızı değerlendirebilir ve video çözümlerine ulaşabilirsiniz.

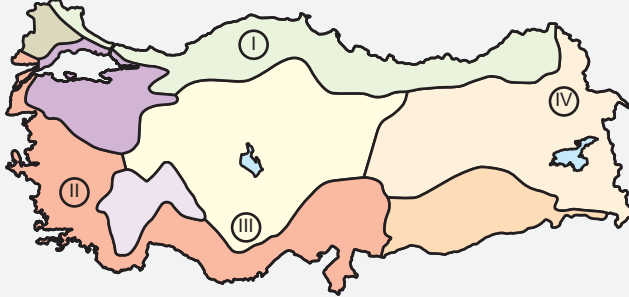
Aynı zamanda **Eğitim Vadisi Mobil** uygulamasını indirerek de video çözümlerine ulaşabilirsiniz.

Uygulamalarımızı **Google Play** veya **App Store**'dan indirebilirsiniz.

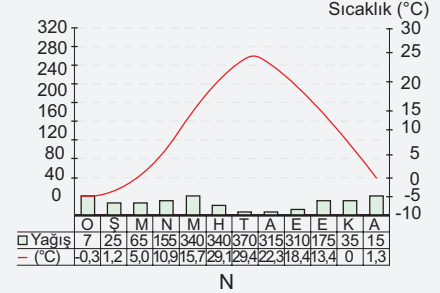
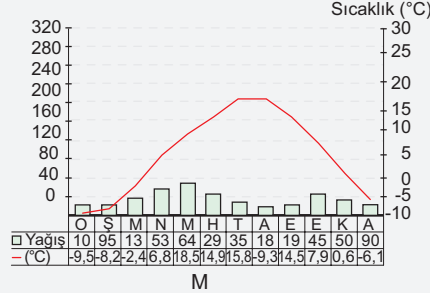
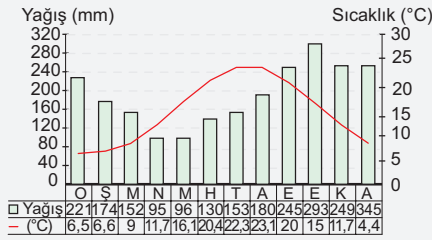
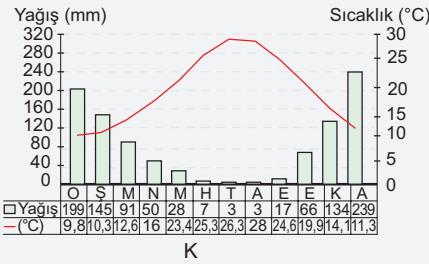


Etkinlik

Aşağıda verilen soruları Türkiye iklim tipleri haritası ile sıcaklık ve yağış grafiklerini inceleyerek yanıtlayınız.



- Akdeniz iklimi
- Karadeniz iklimi
- Geçiş iklimleri
- Marmara geçiş iklimi
- Göller Yöresi geçiş iklimi
- Karasal iklimler
- Doğu Anadolu Karasal İklimi
- İç Anadolu Karasal İklimi
- Güneydoğu Karasal İklimi
- Trakya Karasal İklimi



1. Yukarıdaki grafikler ve haritayı dikkatle inceleyiniz ve her bir grafiğin hangi iklim tipine ait olduğunu belirleyiniz. Yanıtlarınızı aşağıya yazınız.

K grafiği: Akdeniz İklimi L grafiği: Karadeniz İklimi

M grafiği: Doğu Anadolu Karasal İklimi N grafiği: İç Anadolu Karasal İklimi

2. Aşağıdaki iklim tiplerinde hangi tarımsal faaliyetler ön plana çıkar? Her bir iklim tipi için 2 örnek veriniz.

K grafiğine ait iklim: Turuncgiller, zeytin
L grafiğine ait iklim: Çay, fındık

3. Türkiye iklim tipleri haritasında numaralarla gösterilen yerlerin doğal bitki örtülerini tanımlayınız.

I : orman III : bozkır
II : maki IV : çayır

4. Harita üzerinde numaralandırılarak gösterilen yörelerin bulunduğu iklim bölgesini dikkate alarak yağışların mevsimlere dağılımını ve yağış durumunu yazınız.

- I nolu yöre: Her mevsim yağışlı, yıllık yağış miktarı yüksek, yağış en çok sonbaharda düşer.
- II nolu yöre: Yazları kurak, kışları yağışlı. Yıllık yağış miktarı düşük, yağış en çok kışın düşer.
- III nolu yöre: Yazları kurak, kışları kar yağışlı, yağış en çok ilkbaharda düşer.
- IV nolu yöre: Kışları yoğun kar yağışlı, yazları serin, yağmurlu geçer.

5. Türkiye'nin farklı bölgelerinde farklı iklim tiplerinin olmasının ülke ekonomisi (tarım ve turizm sektörlerini) üzerindeki etkilerini araştırarak yazınız.

Akdeniz'de turizm ve tarım (zeytin, turuncgil), Karadeniz'de çay ve fındık, İç Anadolu'da buğday ve hayvancılık, Doğu Anadolu'da hayvancılık ön plandadır ayrıca kış turizmi açısından potansiyeli büyüktür. İklim çeşitliliği ekonomik faaliyetleri çeşitlendirir.

1. • Sıcaklık ortalaması 0°C'nin altında olup yıllık ve günlük sıcaklık farkı oldukça yüksektir.
- İklim bölgesinde, buharlaşma olmadığı için yağış miktarı düşüktür.
- Doğal bitki örtüsü yoktur.

Yukarıda bazı özellikleri verilen iklim tipi aşağıdakilerden hangisidir?

- A) Savan iklimi
B) Çöl iklimi
C) Kutup iklimi
D) Akdeniz iklimi
E) Sert karasal iklim

2.



Yukarıdaki haritada dağılışı gösterilen iklim tipi hangisidir?

- A) Tundra iklimi
B) Sert karasal iklim
C) Step iklimi
D) Ilıman okyanusal iklim
E) Kutup iklimi

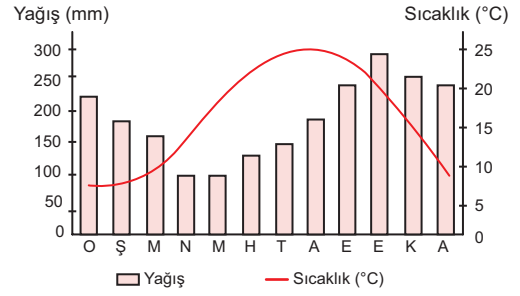
3. "Türkiye'de çok farklı iklim tipleri etkili olmaktadır." diyen bir gözlemci;

- I. genç jeolojik oluşumlu bir ülke olması,
II. çok çeşitli türde tarım ürünlerinin yetişmesi,
III. doğal bitki örtüsü çeşidinin fazla olması

durumlarından hangilerini bu görüşüne kanıt olarak gösterebilir?

- A) Yalnız I
B) Yalnız II
C) I ve II
D) I ve III
E) II ve III

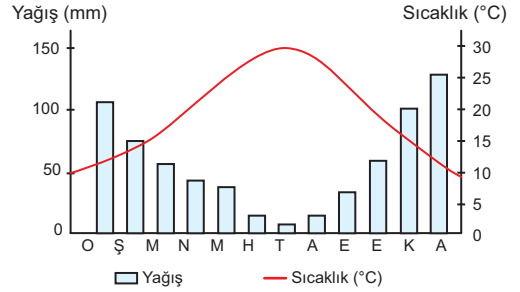
4.



Yukarıda aylık sıcaklık ve yağış grafiği verilen il aşağıdakilerden hangisidir?

- A) Giresun
B) Çanakkale
C) Niğde
D) Adana
E) Kars

5. Aşağıdaki grafikte Türkiye'de etkili olan bir iklim tipinin sıcaklık ve yağış değerleri gösterilmiştir.

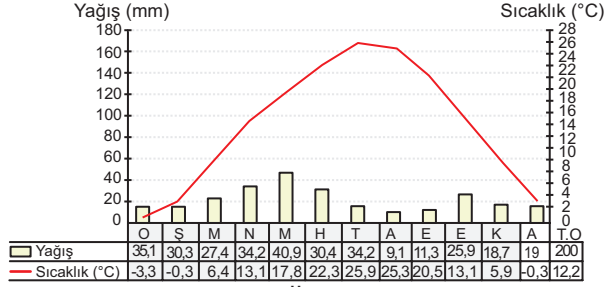
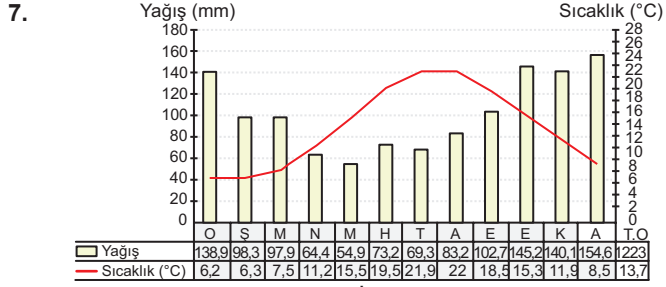


Bu bölge ile ilgili olarak aşağıdakilerden hangisi söylenemez?

- A) Kar yağışları nadiren görülür.
B) Yaz kuraklığı belirgindir.
C) Yağış en çok kış mevsiminde gerçekleşir.
D) Bitki örtüsü, yazın sararan kısa boylu otlardır.
E) Güneşli gün sayısı fazladır.

6. Aşağıda verilen illerden hangilerinde benzer iklim tiplerinin görüldüğü söylenir?

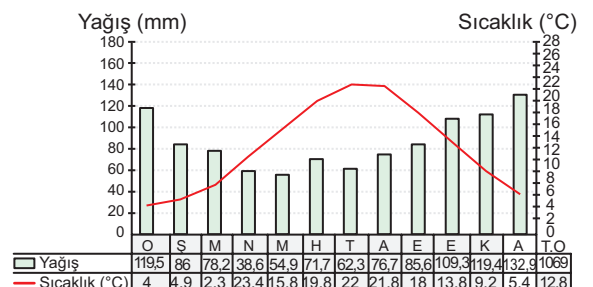
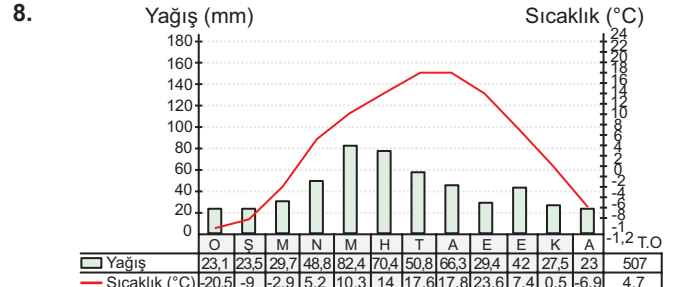
- A) Kırşehir – Düzce
B) Hatay – Muğla
C) Edirne – Sinop
D) Gaziantep – Bursa
E) Erzurum – Mardin



Ceyhan Bey, Türkiye’de yaptığı bir seyahatte I. iklim grafiğine sahip yaşadığı kentten II. iklim grafiğinin yaşadığı bir kente gitmiştir.

Bu seyahat sonrası yaşadığı kentten farklı olarak, geldiği yerle ilgili aşağıdaki gözlemlerden hangisini yapmış olması beklenmez?

- A) Bitki örtüsü genelde otsu bitkilerden oluşmaktadır.
- B) Yaz mevsimi daha sıcak geçmektedir.
- C) Deniz etkisinden uzaklaşmıştır.
- D) Yağışın en çok düştüğü mevsim değişmiştir.
- E) Bulutluluk oranı artmıştır.



Yukarıda sıcaklık ve yağış grafikleri verilen illerin sırasıyla aşağıdakilerden hangileri olduğu söylenebilir?

- | | |
|------------|--------|
| A) Kars | Bartın |
| B) Ankara | Mersin |
| C) Erzurum | Manisa |
| D) Muğla | Mardin |
| E) Denizli | Ordu |

Cevap Anahtarı

1.C 2.A 3.E 4.A 5.D 6.B 7.E 8.A



Yazılı Sınav

1. Aşağıdaki harita üzerinde numaralandırılan yörelerin iklimsel koşulları düşünülerek verilen soruları cevaplayınız.



I no’lu yörenin iklim tipinin adı nedir?

Karadeniz iklimi

II no’lu yörenin bitki örtüsü nedir?

Kızılçam ve maki

III no’lu yörenin yağış rejimi nasıldır?

Düzensizdir, en çok yağış ilkbahar, en az yağış ise yaz dönemidir.

2. Soğuk iklim tiplerinden biri olan tundra iklim tipinin Güney Yarım Küre’de görülmemesinin nedenini yazınız.

Tundra iklimi 60° - 70° enlemleri aralığında görülen bir iklim tipidir. Güney Yarım Küre’nin 60° enlemlerinde karalar yer almadığı için bu iklim tipine rastlanılmaz.

3. Aşağıda verilen kentlerde etkili olan daha çok hangi yağış oluşum türünün görüldüğünü yazınız.

- | | |
|---------|----------|
| Adana : | Cephesel |
| Konya : | Yükselim |
| Rize : | Yamaç |