

9. SINIF COĞRAFYA TAM İZLEME KİTABI



1.ARA TATİL

- TARAMA FÖYÜ-

- TARAMA FÖYÜ -

Adı :

Numara :

Doğru :

Soyadı :

Sınıf :

Yanlış :

Net :



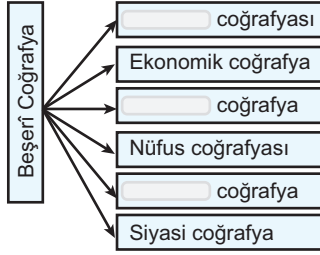
ÖĞRENCİ NO

0 0 0 0 0 0
1 1 1 1 1 1
2 2 2 2 2 2
3 3 3 3 3 3
4 4 4 4 4 4
5 5 5 5 5 5
6 6 6 6 6 6
7 7 7 7 7 7
8 8 8 8 8 8
9 9 9 9 9 9

YANITLAR

01 (A B C D E)	16 (A B C D E)	31 (A B C D E)	46 (A B C D E)	61 (A B C D E)
02 (A B C D E)	17 (A B C D E)	32 (A B C D E)	47 (A B C D E)	62 (A B C D E)
03 (A B C D E)	18 (A B C D E)	33 (A B C D E)	48 (A B C D E)	63 (A B C D E)
04 (A B C D E)	19 (A B C D E)	34 (A B C D E)	49 (A B C D E)	64 (A B C D E)
05 (A B C D E)	20 (A B C D E)	35 (A B C D E)	50 (A B C D E)	65 (A B C D E)
06 (A B C D E)	21 (A B C D E)	36 (A B C D E)	51 (A B C D E)	66 (A B C D E)
07 (A B C D E)	22 (A B C D E)	37 (A B C D E)	52 (A B C D E)	67 (A B C D E)
08 (A B C D E)	23 (A B C D E)	38 (A B C D E)	53 (A B C D E)	68 (A B C D E)
09 (A B C D E)	24 (A B C D E)	39 (A B C D E)	54 (A B C D E)	69 (A B C D E)
10 (A B C D E)	25 (A B C D E)	40 (A B C D E)	55 (A B C D E)	70 (A B C D E)
11 (A B C D E)	26 (A B C D E)	41 (A B C D E)	56 (A B C D E)	71 (A B C D E)
12 (A B C D E)	27 (A B C D E)	42 (A B C D E)	57 (A B C D E)	72 (A B C D E)
13 (A B C D E)	28 (A B C D E)	43 (A B C D E)	58 (A B C D E)	73 (A B C D E)
14 (A B C D E)	29 (A B C D E)	44 (A B C D E)	59 (A B C D E)	74 (A B C D E)
15 (A B C D E)	30 (A B C D E)	45 (A B C D E)	60 (A B C D E)	75 (A B C D E)

1. Murat Bey coğrafya dersinde aşağıdaki tabloyu çizmiştir.



Boş bırakılan bölümleri öğrencilerinden doldurmalarını istemiştir.

Buna göre boş bırakılan bölümlere aşağıdakilerden hangileri getirilmelidir?

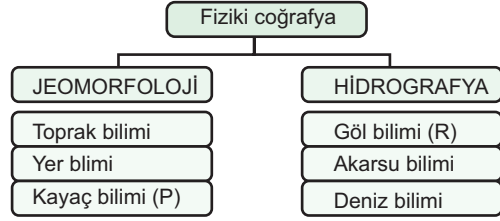
- A) Bitki - Turizm - Tarım
B) Tarihi - Bitki - Yerleşme
C) Turizm - Yerleşme - İklim -
D) Sular - Ekonomik - Ticaret
E) Yerleşme - Kültürel - Sosyal

2. I. Okyanus akıntıları
II. Kayaç döngüsü
III. Besin zinciri
IV. Buzul erimeleri
V. Ozon seyrelmesi

Yukarıdaki coğrafi olgular sırasıyla aşağıda verilen doğal ortamların hangileriyle doğru olarak ilişkilendirilebilir?

- A) Hidrosfer - Litosfer - Biyosfer - Kriyosfer - Atmosfer
B) Kriyosfer - Hidrosfer - Litosfer - Biyosfer - Atmosfer
C) Biyosfer - Hidrosfer - Litosfer - Atmosfer - Kriyosfer
D) Atmosfer - Hidrosfer - Kriyosfer - Litosfer - Biyosfer
E) Litosfer - Hidrosfer - Biyosfer - Kriyosfer - Atmosfer

3. Aşağıdaki kavram haritasında fiziki coğrafyanın alt dallarından Jeomorfoloji ve Hidrografya'nın yararlandığı bazı bilim dalları gösterilmiştir.



Buna göre, kavram haritasında P ve R harfleriyle gösterilen bilim dalları aşağıdakilerin hangisinde doğru olarak verilmiştir?

- | P | R |
|-----------------|--------------|
| A) Hidrojeoloji | Litoloji |
| B) Pedoloji | Oseonografya |
| C) Jeoloji | Hidrojeoloji |
| D) Petrografi | Limnoloji |
| E) Kartoğrafya | Hidroloji |

4. I. Coğrafya bilgisi, doğal afetler ve bu afetlerin etkileri hakkında bilinçlenmemizi sağlar.
II. Coğrafya, yalnızca doğal çevrenin incelenmesiyle ilgilendiği için, temel prensip olarak çevre bilincinin oluşmasını sağlar.
III. Coğrafya bilgisi, çevresel sorunların nedenlerini ve çözüm yollarını anlamamıza yardımcı olur.
IV. Coğrafya, farklı kültürler ve bölgeler arasındaki ilişkileri anlamamıza katkıda bulunur.

Yukarıdaki ifadelerden hangileri, coğrafya öğrenmenin önemini doğru bir şekilde açıklamaktadır?

- A) I ve II B) I ve III C) II ve III
D) I, III ve IV E) II, III ve IV

5. Canlı ve cansız varlıkların kendiliğinden yaşamlarını sürdürdükleri ve içerisinde doğal bir dengenin bulunduğu ortama doğal ortam denir.

Aşağıdakilerden hangisi bu ortamlardan biri değildir?

- A) Litosfer B) Hidrosfer C) Atmosfer
D) Barisfer E) Kriyosfer

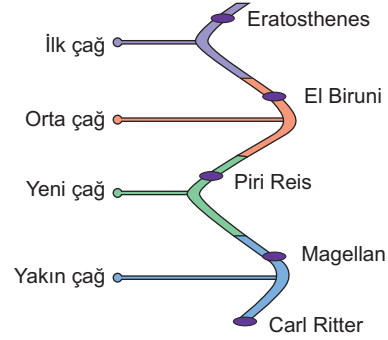
6. Aşağıda verilen bilim insanlarından hangisinin coğrafi bilgi mirasına katkısı diğerlerinden daha önceki bir zamana denk gelmektedir?

- A) Kâtip Çelebi B) İbn Haldun C) Herodot
D) Humboldt E) Yi-Fu Tuan

7. Aşağıdaki ifadelerden hangisi coğrafi bakış açısını en iyi tanımlar?

- A) Coğrafi bakış açısı, haritaların kullanımı ve yer şekillerinin incelenmesi ile ilgilenir.
B) Coğrafi bakış açısı, dünyadaki doğal ve beşerî olayların mekânsal dağılımını ve bu olayların birbirleriyle olan ilişkilerini inceler.
C) Coğrafi bakış açısı, iklim değişikliklerinin etkilerini analiz eder.
D) Coğrafi bakış açısı, doğal afetlerin meydana geldiği bölgeleri inceler.
E) Coğrafi bakış açısı, insanların tarih boyunca yaptığı keşiflerin haritalandırılması ile ilgilenir.

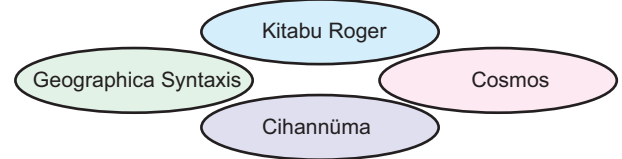
8. Aşağıdaki coğrafya bilimine katkı sunmuş bazı bilim insanları tarih şeridinde dönemlerine göre gösterilmiştir.



Tarih şeridinde hangi bilim insanının yaşadığı dönem gösterilirken hata yapılmıştır?

- A) Eratosthenes B) El Biruni C) Piri Reis
D) Magellan E) Carl Ritter

9. Aşağıda coğrafya bilimine katkı sunmuş bilim insanlarına ait bazı eserlerin isimleri verilmiştir.



Aşağıdakilerden hangisi bu bilim insanlarından biri değildir?

- A) Piri Reis B) Batlamyus
C) Muhammet İdrisi D) Katip Çelebi
E) Alexander von Humboldt

10. Aşağıdakilerden hangisi coğrafya bilimine katkı sağlayan müslüman bilim insanları arasında yer almaz?

- A) Mesudi B) İdrisi C) Batlamyus
D) Uluğ Bey E) İbni Haldun

11. Aşağıdaki bilim insanlarından hangisi coğrafya bilimine haritacılık alanında daha çok katkı sağlamıştır?

- A) Mesudi B) İbn Haldun C) Hayati Doğanay
D) Carl Ritter E) Piri Reis

12. Kadir Bey, öğrencilerine coğrafyanın incelediği konular ile ilgili araştırma görevi vermiştir.

Ceylin: Travertenlerin oluşumunu etkileyen faktörler,

Furkan: Kurşun ve çinko madenlerinin çıkarıldığı bölgeler,

Alperen: Dağınık kır yerleşmelerinin Doğu Karadeniz Bölgesi'nde yaygın olarak görülme nedenleri,

Efe: Sanayi faaliyetlerinin ülke genelindeki dağılışı,

Elifsu: Anadolu uygarlıklarının gelişiminde rol oynayan ekonomik faaliyetlerin incelenmesi konularını seçmişlerdir.

Bu öğrencilerden hangisinin beşerî coğrafya ile ilgili bir araştırma hazırladığı söylenemez?

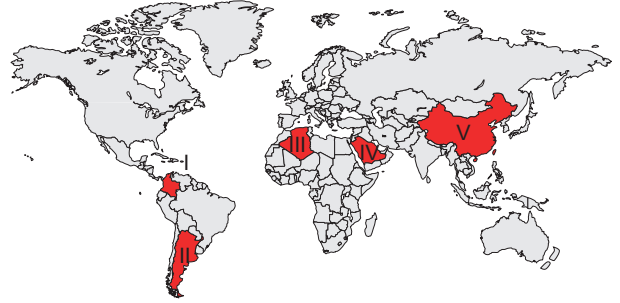
- A) Ceylin B) Furkan C) Alperen
D) Efe E) Elifsu

13. Uzaktan algılama teknikleriyle elde edilen mekansal veriler haritaya aktarılırken çeşitli işaretler kullanılır. Bunlar nokta, çizgi ve alandır.

Buna göre aşağıdaki coğrafi unsurlardan hangisi çizgi yöntemi ile gösterilir?

- A) Ormanlar B) Göller C) Ülkeler
D) Ovalar E) Akarsular

14. Aşağıdaki haritada bazı ülkeler numaralandırılarak gösterilmiştir.



Bu ülkelerin aynı ebatta kağıda haritaları çizildiğinde hangisinin ölçeği diğerlerinden daha küçük olur?

- A) I B) II C) III D) IV E) V

15. I. 1/800.000
II. 1/6.000.000
III. 1/250.000

Yukarıda verilen ölçeklerle çizilen aynı bölgeye ait üç haritanın ayrıntıları gösterme gücünün fazladan aza doğru sıralanışı aşağıdakilerden hangisinde doğru verilmiştir?

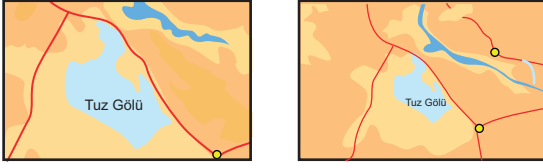
- A) I-II-III B) I-III-II C) II-I-III
D) II-III-I E) III-I-II

16. I. km
II. km

Yukarıdaki iki farklı çizgi ölçekle hazırlanan Türkiye fiziki haritaları ile ilgili, aşağıda verilen yargılardan hangisi yanlıştır?

- A) II. haritanın ölçeği daha küçüktür.
B) I. haritada küçültme oranı daha azdır.
C) İki haritada kağıt üzerinde eşit yer kaplar.
D) I. haritada ayrıntı daha fazladır.
E) II. haritada Tuz Gölü'nün harita üzerinde kapladığı alan daha küçüktür.

17. Aşağıda Tuz Gölü'nün iki farklı haritada kapladığı alan gösterilmiştir.



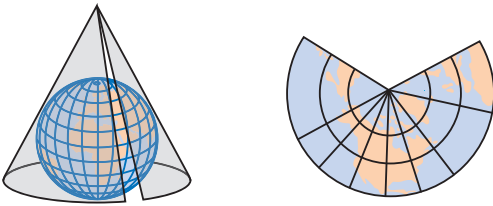
I.haritanın ölçeği 1/750.000 olduğuna göre , II.haritanın ölçeği aşağıdakilerden hangisi olamaz?

- A) 1/600.000 B) 1/ 800.000 C) 1/ 1.000.000
D) 1/ 1.500.000 E) 1/ 2.000.000
18. Bir kartoğraf olan Murat Bey, farklı ölçekler kullanarak beş tane Türkiye idari haritası çizmiştir.

Murat Bey bu haritaları çizerken aşağıdaki ölçeklerden hangisini kullandığı haritanın ayrıntıyı gösterme gücü daha fazladır?

- A) 1/ 2.500.000 B) 1/ 4.000.000 C) 1/ 5.000.000
D) 1/ 5.500.000 E) 1/ 6.000.000

19.



Yukarıda verilen projeksiyonla çizilen bir dünya haritasında aşağıdaki ülkelerden hangisinde hata payı daha az olur?

- A) Brezilya B) İspanya C) Kolombiya
D) Papua Yeni Gine E) Kenya

20.



Yukarıdaki haritada işaretli olan yerlerin hangilerinde gerçek alan ile izdüşüm alan arasındaki fark daha fazladır?

- A) I ve II B) I ve III C) II ve IV
D) III ve IV E) III ve V

21. Belirli sınırların (kita, ülke, il, ilçe vb.) bir coğrafi unsura ait sayısal değerlere göre renk veya desenlerle gösterildiği nicel (ölçülebilir olan) haritalardır. Bu haritalarda miktar veya yoğunluk verisine bağlı olarak dereceli bir renklendirme yapılır.

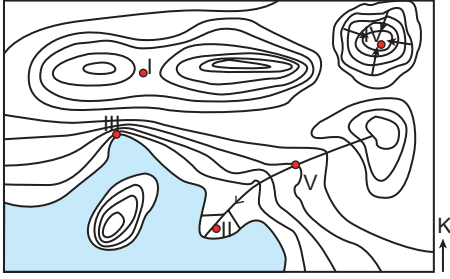
Yukarıda hakkında bilgi verilen harita türü hangisidir?

- A) Korokromatik B) İzoplez
C) Oransal Sembol D) Koroplez
E) Akış

22. **Coğrafi Bilgi Sistemleri (CBS) kullanımının yararları ile ilgili aşağıdaki ifadelerden hangisi doğrudur?**

- A) CBS, yalnızca harita oluşturma amacıyla kullanılır
B) CBS, tarihi verilerin analizinde kullanılmaz, sadece güncel verilerle çalışır.
C) CBS, eğitim alanında sadece coğrafya derslerinde kullanılabilir.
D) CBS, yalnızca büyük şirketler tarafından kullanılabilir, bireysel kullanım için uygun değildir.
E) CBS, mekânsal verilerin analiz edilmesi sayesinde daha etkili karar alma süreçlerini destekler.

23.



Deniz seviyesinden itibaren aynı yükseltiye sahip noktaların birleştirilmesiyle izohips eğrileri elde edilir. İzohips yöntemi günümüzde yeryüzü şekillerinin gösterilmesinde en çok kullanılan yöntemlerden birisidir.

Yukarıda verilen topoğrafya haritası üzerinde gösterilen yerlerle ilgili olarak aşağıdaki bilgilerden hangisi yanlıştır?

- A) I numaralı nokta boyundur.
- B) II numaralı nokta delta ovasıdır.
- C) III numaralı nokta falezdir.
- D) IV numaralı nokta kapalı çukurdur.
- E) V numaralı nokta sırttır.

24. Şule, İtalya'nın Ponza Adası'nda birlikte tatil yaptığı İtalyan arkadaşı Martina'ya Türkiye hakkında şu bilgileri vermiştir; Türkiye;

- I. orta enlemlerde yer alan,
- II. yakın bir jeolojik zamanda oluşmuş,
- III. stratejik öneme sahip iki tane boğazın bulunduğu,
- IV. yıl içerisinde dört mevsimin yaşandığı,
- V. Dünya'nın en önemli ulaşım yolları üzerinde yer alan bir ülkedir.

Buna göre Şule'nin verdiği bilgilerden hangileri Türkiye'nin mutlak konumuyla ilgilidir?

- A) I ve II
- B) I ve III
- C) II ve III
- D) I ve IV
- E) IV ve V

25. Aşağıda Avrupa kıtasının fiziki haritası verilmiştir.

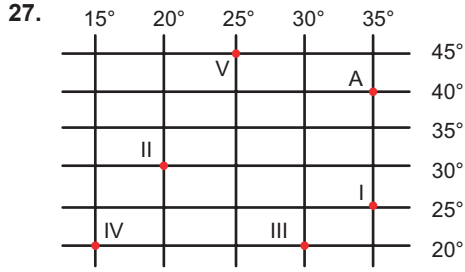


Buna göre haritada belirtilen bölgelerin aynı renkle gösterilmiş olması aşağıdakilerden hangisine kanıt oluşturur?

- A) Yükseltilerinin benzer olduğuna
- B) Aynı tür bitkilerinin yetiştiğine
- C) Denize uzaklıklarının eşit olduğuna
- D) Toprak tiplerinin benzer olduğuna
- E) Yağış miktarlarının aynı olduğuna

26. Aşağıdakilerden hangisi, Türkiye'nin göreceli konumundan kaynaklanan bir durumdur?

- A) Güneş ışınlarını hiçbir zaman 90°'lik açıyla almaması
- B) En doğusu ile en batısı arasında 76 dakikalık zaman farkının olması
- C) Doğu Karadeniz'de yer alan illerin gerçek ve iz düşüm alanları arasındaki farkın fazla olması
- D) Alacakaranlık süresinin Samsun'dan, Antalya'ya doğru gidildikçe azalması
- E) Kuzeye doğru gidildikçe gece ve gündüz süreleri arasındaki farkın artması



Şekildeki koordinat sisteminde belirtilen A noktasında yerel saat 16.40 iken, aynı anda yerel saatin 15.40 olduğu merkez hangi numarayla gösterilmiştir?

- A) I B) II C) III D) IV E) V

28. Aşağıda Türkiye'ye ait bazı özellikler verilmiştir.

- I. Zengin enerji kaynaklarına sahip Orta Doğu ve Hazar Havzası ile komşu olması
- II. İstanbul ve Çanakkale Boğazları'na sahip olması
- III. Ülkenin iç kesimlerinde bozkır sahalarının geniş yer tutması
- IV. İklim çeşitliliğinin fazla olması

Bu özelliklerden hangilerinin Türkiye'nin jeopolitik önemini artırdığı söylenir?

- A) I ve II B) I ve III C) I ve IV
D) II ve III E) III ve IV

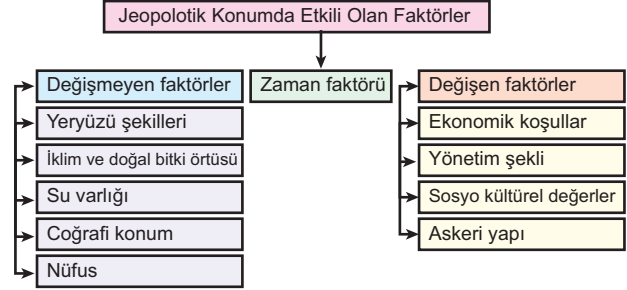
29. Kıbrıs Adası'nın;

- I. askerî müdahale gerektirecek durumlarda hava üssü olarak destek sağlayacak bir noktada olması,
- II. Anadolu'nun güney kıyılarındaki İskenderun ve Mersin limanlarının güvenliğini sağlaması,
- III. Akdeniz ve Orta Doğu'daki ticari faaliyetlerin sürdürülebilirliği için kilit bir konumda bulunması

durumlarından hangileri, adanın Türkiye açısından stratejik önemini artıran etkenlerdendir?

- A) Yalnız I B) Yalnız III C) I ve II
D) II ve III E) I, II ve III

30. Aşağıdaki tabloda bir ülkenin jeopolitik konumunu belirleyen bazı öğeler; zamana bağlı olarak değişen ve değişmeyen faktörler şeklinde gösterilmiştir.



Tablodaki faktörlerden hangisinin yeri yanlıştır?

- A) Su varlığı B) Yönetim şekli C) Nüfus
D) Askeri yapı E) Ekonomik koşullar

31. Aşağıda Türkiye'nin jeopolitik önemi üzerinde etkili olan güçlü ve zayıf yönleri ile fırsat ve tehdit unsurlarının gösterildiği bir GZFT analiz şeması verilmiştir.



Bu şemada analizlerden hangilerinin yeri yanlıştır?

- A) Yalnız G B) Yalnız T C) G ve Z
D) Z ve T E) F ve T

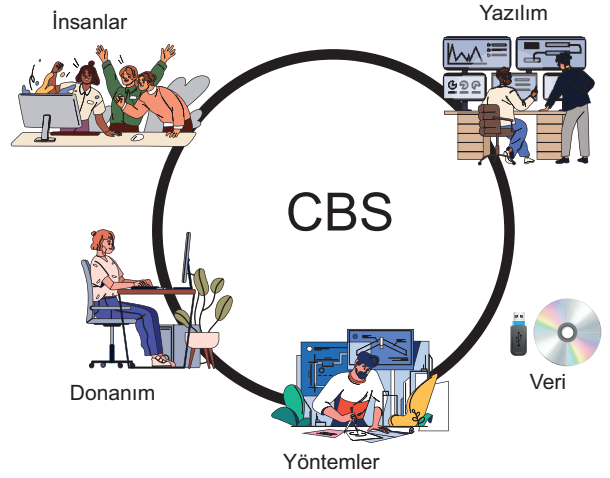
32. Mekânsal bilgi teknolojileri ile ilgili aşağıdaki ifadelerden hangisi **yanlıştır**?

- A) Mekânsal bilgi teknolojileri, coğrafi verilerin toplanması, analizi ve görselleştirilmesi süreçlerini içerir.
- B) Mekânsal bilgi teknolojileri, sadece akademik araştırmalar için kullanılabilir ve pratik uygulamaları yoktur.
- C) Mekânsal bilgi teknolojileri, şehir planlama, çevre yönetimi ve afet yönetimi gibi alanlarda kullanılabilir.
- D) Mekânsal bilgi teknolojileri, coğrafi bilgi sistemleri (CBS), uzaktan algılama ve GPS teknolojilerini içerir.
- E) Mekânsal bilgi teknolojileri, çeşitli verilerin mekânsal analizini yaparak daha iyi kararlar alınmasına yardımcı olur.

33. Türkiye'nin Adalar Denizi ve Doğu Akdeniz'deki hukuksal ve coğrafi hakları ile ilgili aşağıdaki ifadelerden hangisi **doğrudur**?

- A) Türkiye, Doğu Akdeniz'de münhasır ekonomik bölge (MEB) ilan ederek enerji kaynakları arayabilir.
- B) Türkiye'nin Adalar Denizi'nde sadece karasuları üzerinde hakları vardır.
- C) Türkiye, Adalar Denizi'nde kıta sahanlığına sahip değildir.
- D) Türkiye'nin Doğu Akdeniz'deki hakları sadece kıyı şeridini kapsar.
- E) Türkiye'nin Adalar Denizi'ndeki hakları, uluslararası

34.



Yukarıdaki CBS (Coğrafi Bilgi Sistemleri) bileşenleri diyagramına göre, “CBS verilerinin işlenmesi ve analiz edilmesi için kullanılan programlar ve araçlar” ifadesi hangi bileşeni tanımlar?

- A) Donanım
- B) İnsanlar
- C) Veri
- D) Yazılım
- E) Yöntemler

35. Türkiye'nin “Mavi Vatan” kavramıyla ilgili aşağıdaki ifadelerden hangisi **doğrudur**?

- A) “Mavi Vatan” kavramı, Türkiye'nin hava sahasındaki egemenlik haklarını ifade eder.
- B) “Mavi Vatan” kavramı, Türkiye'nin denizlerdeki egemenlik haklarını ve deniz sınırlarını ifade eder.
- C) “Mavi Vatan” kavramı, Türkiye'nin kara sınırlarını ve toprak bütünlüğünü ifade eder.
- D) “Mavi Vatan” kavramı, Türkiye'nin yer altı maden kaynaklarını işletme haklarını ifade eder.
- E) “Mavi Vatan” kavramı, Türkiye'nin tatlı su kaynaklarını ifade eder.

hukuka göre yoktur.



Cevap Anahtarı

1.E	2.A	3.D	4.D	5.D	6.C	7.B	8.D	9.A	10.C	11.E	12.A
13.E	14.E	15.E	16.C	17.A	18.A	19.B	20.E	21.D	22.E	23.E	24.D
25.A	26.C	27.B	28.A	29.E	30.C	31.A	32.B	33.A	34.D	35.B	