

# 9. SINIF

## COĞRAFYA

### TAM İZLEME KİTABI



7. HAFTA

- MEKANSAL BİLGİ TEKNOLOJİLERİ -

- TÜRKİYE'NİN COĞRAFİ KONUMU -

Adı :

Numara :

Doğru :

Yanlış :

Soyadı :

Sınıf :

Net :

		YANITLAR											
■		01	A	B	C	D	E	16	A	B	C	D	E
■		02	A	B	C	D	E	17	A	B	C	D	E
■		03	A	B	C	D	E	18	A	B	C	D	E
■		04	A	B	C	D	E	19	A	B	C	D	E
■		05	A	B	C	D	E	20	A	B	C	D	E
■		06	A	B	C	D	E	21	A	B	C	D	E
■		07	A	B	C	D	E	22	A	B	C	D	E
■		08	A	B	C	D	E	23	A	B	C	D	E
■		09	A	B	C	D	E	24	A	B	C	D	E
■		10	A	B	C	D	E	25	A	B	C	D	E
■		11	A	B	C	D	E	26	A	B	C	D	E
■		12	A	B	C	D	E	27	A	B	C	D	E
■		13	A	B	C	D	E	28	A	B	C	D	E
■		14	A	B	C	D	E	29	A	B	C	D	E
■		15	A	B	C	D	E	30	A	B	C	D	E

ÖĞRENCİ NO									
0	0	0	0	0	0	0	0	0	0
1	1	1	1	1	1	1	1	1	1
2	2	2	2	2	2	2	2	2	2
3	3	3	3	3	3	3	3	3	3
4	4	4	4	4	4	4	4	4	4
5	5	5	5	5	5	5	5	5	5
6	6	6	6	6	6	6	6	6	6
7	7	7	7	7	7	7	7	7	7
8	8	8	8	8	8	8	8	8	8
9	9	9	9	9	9	9	9	9	9

Adı :

Soyadı :

**Tam Okul** uygulamasını kullanarak optik formları okutabilir, sonuçlarınızı değerlendirebilir ve video çözümlerine ulaşabilirsiniz.

Aynı zamanda **Eğitim Vadisi Mobil** uygulamasını indirerek de video çözümlerine ulaşabilirsiniz.

Uygulamalarımızı **Google Play** veya **App Store**'dan indirebilirsiniz.

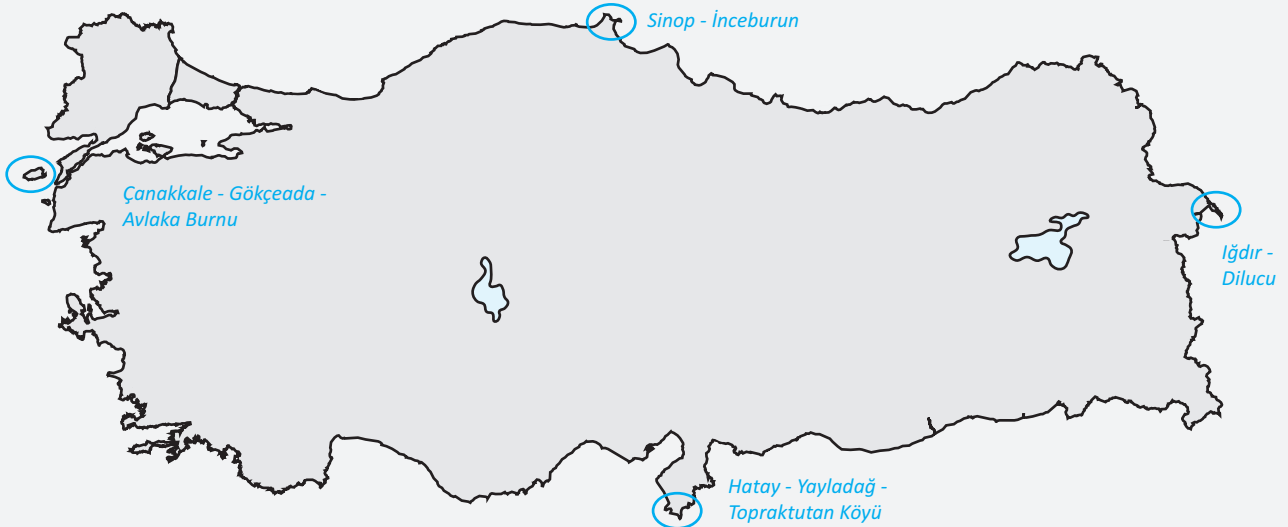


## Etkinlik

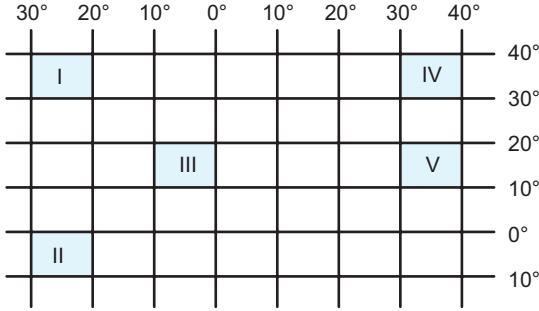
A. Aşağıda verilen özellikler ülkemizin hangi konumunun sonucudur? İşaretleyiniz.

	Mutlak Konum	Göreceli Konum
45° D boylamı (İğdır) tüm ülkede ortak saat (GMT +3) olarak kullanılmaktadır.	✓	
Dünya petrolünün %60'nın çıkarıldığı Ortadoğu ülkelerine komşudur.		✓
Batı rüzgârlarından etkilenirken kış mevsiminde cephe yağışları görülür.	✓	
Güneş ışınları hiçbir zaman 90° açıyla düşmez. Bir cismin gölge boyu hiçbir zaman sıfır olmaz.	✓	
Türkiye'nin gerçek alanı 814.578 km <sup>2</sup> iken, iz düşüm alanı 780.560 km <sup>2</sup> dir.		✓
En doğusu ile batısı arasında 19 meridyen fark vardır. En kuzeyi ile en güneyi arasında 6 paralel fark vardır.	✓	
Aynı anda farklı mevsim özellikleri yaşanır.		✓
Güneyden esen rüzgârlar sıcaklığı artırmakta; kuzeyden esen rüzgârlar sıcaklığı düşürmektedir.	✓	
Üç tarafı denizlerle çevrilidir. İç kısımlara deniz etkisi fazla sokulamaz.		✓
Ülkemiz Alp-Himalaya kıvrım sistemi içindedir. Batıdan doğuya doğru gittikçe yükselti artmaktadır.		✓

B. Aşağıdaki harita üzerinde Türkiye'nin mutlak konumuna göre dört ana yönde en uç noktalarını daire içerisinde olarak isimlerini yazınız.



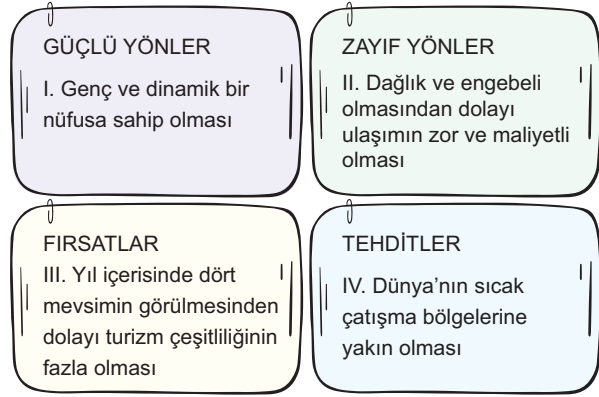
1. Aşağıda beş farklı alan koordinat sisteminde renklendirilerek gösterilmiştir.



Türkiye'nin mutlak konumu dikkate alındığında hangi numaralı alanın tamamı ülke sınırları içerisinde kalır?

- A) I      B) II      C) III      D) IV      E) V
2. Aşağıdaki özelliklerden hangisi Türkiye'nin göreceli konumu ile ilgili değildir?
- A) Batıdan doğuya doğru gidildikçe engebenin ve yükseltinin artması
- B) Ilıman iklim kuşağına ait iklim tiplerinin görülmesi
- C) Boğazlara sahip olmasından dolayı jeopolitik öneminin yüksek olması
- D) Petrol ve doğal gaz rezervleri bakımından fakir olması
- E) Aynı anda dört mevsim koşullarının yaşandığı yerlere sahip olması
3. Türkiye'nin jeopolitik konumu üzerinde aşağıdakilerden hangisinin etkisi diğerlerine göre daha azdır?
- A) İklimsel çeşitliliğin fazla olması
- B) Asya ile Avrupa kıtalarını birbirine bağlaması
- C) Doğal gaz ve petrol zengini ülkelere komşu olması
- D) İstanbul ve Çanakkale boğazlarına sahip olması
- E) Transit ticaret yollarının üzerinde bulunması

- 4.



Yukarıda Türkiye'nin güçlü ve zayıf yönlerinin, fırsat ve tehdit unsurlarının bazılarının numaralandırılarak belirtildiği bir GZFT analizi verilmiştir.

**Bu unsurlardan hangileri Türkiye'nin mutlak konumunun bir sonucudur?**

- A) Yalnız I      B) Yalnız III      C) I ve II  
D) II ve III      E) III ve IV

- 5.

- Yerel saati ile ülkenin ulusal saatinin aynı olduğu kent
- Çizgisel hızın en düşük olduğu kent
- Gece ve gündüz süreleri arasındaki farkın en az olduğu kent
- İftar ve sahur vakitlerinin en geç gerçekleştiği kent

Yukarıda bazı merkezlerin mutlak konumundan kaynaklanan bazı özellikler verilmiştir.

**Buna göre, verilen özelliklerle aşağıdaki kentler eşleştirildiğinde hangisi dışarıda kalır?**

- A) Çanakkale      B) Hatay      C) Sinop  
D) Iğdır      E) Gaziantep

- 6.

Türkiye'nin devletler hukuku tarafından tanınan, üzerinde egemenlik hakkı kullanılabileceği deniz yetki alanları demektir. Türkiye'nin bu alanlara sahip çıkması ve haklarını koruması devlet olmanın gereğidir.

**Yukarıda verilen açıklamada hangi kavramla ilgili bilgi verilmiştir?**

- A) Gök Vatan      B) Kara Vatan      C) Mavi Vatan  
D) Uzay Vatan      E) Siber Vatan

7.



Harita üzerinde gösterilen illerin konumları dikkate alındığında aşağıdakilerden hangisi söylenebilir?

- İzmir ilinin Ordu ilinden sıcak olmasında denizellik etkisi fazladır.
- İki meridyen arasındaki mesafenin en geniş olduğu Ordu'dur.
- Antalya'nın Çorum'dan sıcak olmasında enlem ve denizellik etkisi vardır.
- Ordu'da gece gündüz süreleri arasındaki zaman farkı Antalya'ya göre daha azdır.
- Çorum'a göre Antalya'da güneş daha erken doğar.

8. Kıbrıs Adası'nın Türkiye ve Türk dünyası açısından önemi ile ilgili aşağıdaki ifadelerden hangisi **yanlıştır**?

- Kıbrıs Adası, Akdeniz'deki stratejik konumu nedeniyle deniz yollarının kontrolü açısından büyük bir öneme sahiptir.
- Kıbrıs Adası, Türkiye'nin güney sahillerine olan yakınlığı nedeniyle Türkiye'nin güvenlik politikalarında önemli bir rol oynamaktadır.
- Kıbrıs Adası, Orta Asya'daki Türk devletleri ile doğrudan kara bağlantısı sağladığı için Türk dünyası açısından kritik bir geçiş noktasıdır.
- Kıbrıs Adası'nda bulunan Türk nüfusu, adanın Türkiye ve Türk dünyası ile kültürel bağlarını güçlendirmektedir.
- Kıbrıs Adası, Doğu Akdeniz'deki enerji kaynaklarının keşfi ve kullanımı açısından büyük bir ekonomik potansiyele sahiptir.



Cevap Anahtarı

1.D 2.B 3.A 4.B 5.E 6.C 7.C 8.C



Yazılı Sınav

- Türkiye, Kuzey Yarım Küre'de yer alır. Bu durum, Türkiye'nin güneyinden kuzeyine doğru gidildikçe bazı özelliklerin değişmesine neden olur.

Bu özelliklerden beş tanesini yazınız.

- Güneş ışınlarının yere düşme açısı azalır.
- Sıcaklık, enleme bağlı olarak azalır.
- Cisimlerin gölge boyu uzar.
- Deniz suyu tuzluluk oranı azalır.
- Kalıcı kar sınırı deniz seviyesine yaklaşır.
- Üzerinden geçen paralel dairelerinin boyları kısalmır.
- Üzerinden geçen ardışık iki meridyen yayı arasındaki mesafe azalır.

- Türkiye'nin enlem ve boylam dereceleri, 26° ile 45° batı boylamı ve 36° ile 42° güney enlemi şeklinde olsaydı; Türkiye'nin mutlak konum özelliklerinde nasıl değişimler meydana gelirdi? İki örnek veriniz.

- Kuzeye doğru gidildikçe sıcaklıklar artardı
- Türkiye -2 ve -3. Saat dilimlerinde yer alırdı

- Türkiye'nin göreceli konumunun kendisine sağladığı katkılardan iki tanesini yazınız.

- Petrol ve doğal gaz gibi enerji kaynaklarının rezerv miktarının fazla olduğu Orta Doğu ülkeleri ile sınır komşusu olması nedeniyle enerji ihtiyacını boru hatları ile karşılayabilme imkânı doğmuştur ve stratejik önemi artmıştır.
- Avrupa ve Asya kıtalarının birleşme noktasında olduğu için kıtalararası ulaşım hatları gelişmiş ve bu durum ticaretin canlı olmasına yol açmıştır.