



Tanıtım

Tema: Beşerî Sistemler ve Süreçler

Konu: Nüfus Dinamikleri

Alt Konu: Göç kavramı - Göç Türleri (Göçlerin Sınıflandırılması) Göçün Mekânsal Etkileri

Temanın Amacı: Dünya ve Türkiye'deki nüfusun dağılışı ve hareketlerini etkileyen faktörler hakkında haritalar üzerinden çıkarımda bulunabilme / Dünya ve Türkiye'de nüfus yoğunluğunun fazla ve az olduğu alanlar ile nüfusun dağılışı ve hareketlerini etkileyen faktörlerin incelenebildiği haritaları ilişkilendirerek çıkarım yapabilme

Anahtar Kavramlar: bağımlı nüfus, demografik dönüşüm, doğum oranı, genç nüfus, göç, nüfus artış hızı, nüfus piramidi, nüfus politikası, nüfus yoğunluğu, ortanca yaş, ölüm oranı, yaşlı nüfus

Köprü Kurma

TÜRKİYE'DEN AVRUPA'YA İŞÇİ GÖÇÜ

Türkiye'den '60'lı yıllarda Avrupa'ya işçi olarak gelenlerin temelli kalmak gibi bir niyetleri yoktu. Hemen hepsi belli bir dönem kalmayı, biraz para biriktirmeyi, sonra köyüne dönmeyi hedefliyordu. Çoğu ailelerini bırakıp gelmişlerdi. Bir geri dönüş planı hep vardı. Bu yüzden iki taraf için de kalıcılık söz konusu değildi. Bu açıdan beklentiler uyumluydu. Tarih bunun böyle olmadığını gösterdi.

Bunun temel nedeni işverenlerin veryansıydı. "Biri geliyor, işi öğreniyor, tam alışmaya başlarken geri gönderiyoruz, bunun anlamı yok" dediler. Ve sözleşmelerin süresi uzatılmaya başlandı. Diğer yandan, Türkiye'den gelenler şu gerçekle yüzleşmişti. Arzu ettikleri parayı o kadar da kısa sürede biriktiremiyorlardı. Bu yüzden bir senede geri dönme beklentisinden çıkmaya başladılar. Bu zaman dilimi iki-üç yıla çıktı. Ama hepsinin perspektifinde geri dönmek vardı yine de.



Düsseldorf Havalimanı'nda bekleyen Türkiyeli "misafir işçiler", 1960'lar / Fotoğraf: dpa

BASINDAN/ 13 Mart 2024

Yukarıdaki basın haberi insanların Türkiye'den Avrupa ülkelerine göç ederken yaşadıkları çeşitli sorunları ve yaşadıkları çıkmazları ifade etmektedir. Buna göre sınıfta aşağıdaki soruları tartışınız.

1. Basın haberine göre insanların Avrupa ülkelerine göç etmesinin asıl sebebi nedir?
2. Günümüzde dünyada en çok göç veren ülkeler ya da bölgeler nerelerdir?
3. 1960'lı yıllarda Türkiye'den çalışmak için Avrupa ülkelerine giden insanlar belli bir süre çalışıp geri dönmeyi düşünmelerine rağmen bunu yapamamalarında etkili olan faktörler nelerdir?

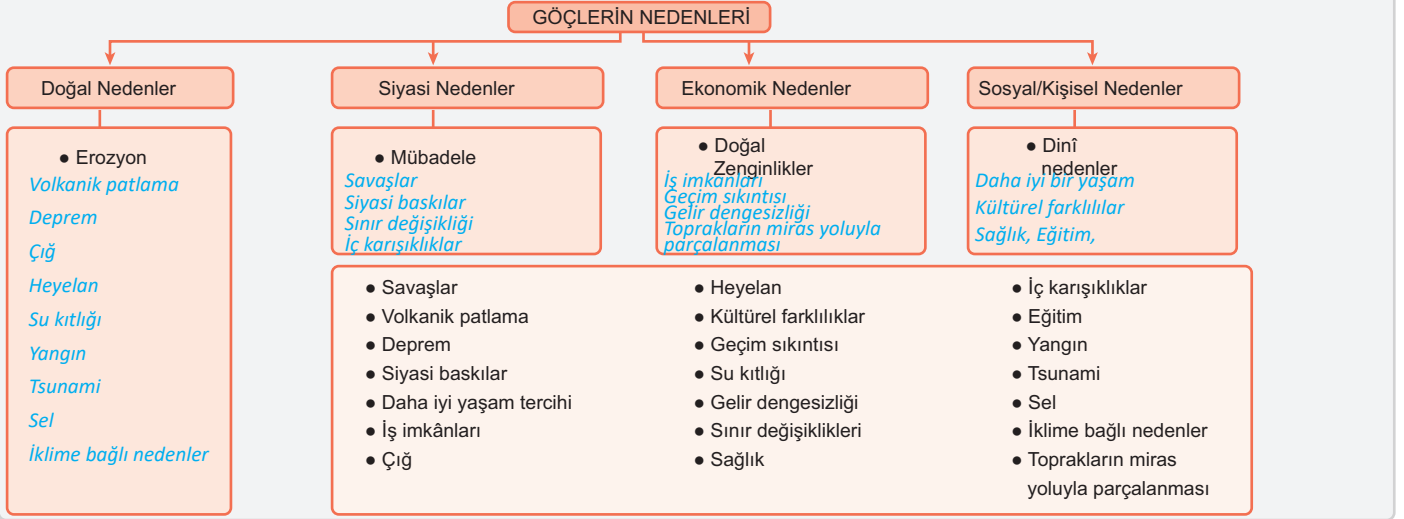
Göç Kavramı

- İnsanların herhangi bir nedenle yaşadıkları yeri kalıcı olarak terk edip başka bir yere yerleşmesine ya da geçici olarak yer değiştirmesine göç denir.

- Önceki dönemlerde, göçebe yaşam tarzı nedeniyle sürekli olarak yer değiştiren insanlar, günümüzde çeşitli nedenlerle göç etmektedir.

Etkinlik 1

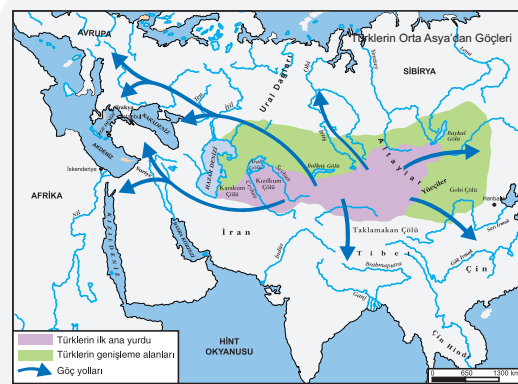
Göçlerin nedenleriyle ilgili olarak şemanın altında verilen ifadeleri örnekte olduğu gibi şemada uygun başlıklar altına yerleştiriniz.



Arkeolojik kanıtlar, insan atalarının Doğu Afrika'dan tüm dünyaya yayıldığını ortaya koymaktadır. Kavimler Göçü, Yeni Dünya'ya yapılan göçler, kölelerin zorunlu göçü ve Sanayi Devrimi'nden itibaren gerçekleşen işçi göçleri, tarihteki önemli göç örnekleridir.

Türklerin Orta Asya'dan Göçü

- Türklerin Orta Asya'da zaten göçebe bir hayat sürmesi, ana yurtlarından çıkarak uzak mesafelere göç etmesine ve dünyanın çeşitli bölgelerine yayılmalarında etkili olmuştur.
- Tarihî araştırmalara göre, bu göç hareketinin en temel nedeni iklim değişikliğine bağlı olarak ana yurt topraklarının verimsizleşmesidir.



Mücadele Göçü

- Savaşlardan sonra, karşılıklı ülkeler arasında yapılan antlaşmalar ile azınlık halkın yer değiştirdiği nüfus hareketlerine "mücadele göçleri" denir.
- Lozan Barış Antlaşması'ndan sonra Yunanistan'daki Türkler ile Türkiye'de yaşayan Rumlar yer değiştirmiştir.
- Romanya ile Bulgaristan arasında da mücadele göçleri yaşanmıştır.

Beyin Göçü

- Bilim, tıp, teknoloji vb. alanlarda iyi eğitim görmüş nitelikli insanların, daha yüksek ücretler, daha iyi çalışma ve yaşam koşulları vb. nedenlerle gelişmiş ülkelere göç etmesidir.
- Genelde en çok beyin göçü veren ülkeler; Hindistan, Pakistan, Çin, İran, Nijerya ve Orta Asya Türk Cumhuriyetleridir.
- ABD, Kanada, Fransa, Almanya vb. gelişmiş ülkeler ise bu göçlerin yöneldiği ülkelerin başında gelir.

Önemli

Aziz Sancar, 8 Eylül 1946'da Mardin'in Savur ilçesinde doğdu. İstanbul Üniversitesi Tıp Fakültesi'ni bitirdikten sonra Amerika Birleşik Devletleri'ne giderek DNA onarımı üzerine çalışmalar yaptı. 2015 yılında, DNA onarımı mekanizmaları üzerine yaptığı keşiflerle Nobel Kimya Ödülü'nü kazandı. Aziz Sancar, bilimsel başarılarıyla Türkiye'de ve dünyada tanınan bir bilim insanı olmuştur.

Beyin Göçünün Olumlu ve Olumsuz Sonuçları

| Olumlu sonuçlar | Ayrıldığı Ülke Açısından | Gittiği Ülke Açısından |
|----------------------------|---|--|
| Bilimsel Bilgi ve deneyim | Bilim insanı geri döndüğünde yeni bilgi ve deneyim getirir. | Yeni bilimsel bilgi ve teknolojiler kazanır. |
| Uluslararası İş Birlikleri | Uluslararası projelerde yer alarak ülkenin prestijini artırabilir. | Küresel işbirlikleri ve projelerde avantaj sağlar. |
| Ekonomik Katkı | Göç eden bilim insanının yurt dışından kazandığı gelire ülke yatırım yapması mümkündür. | Bilim insanının ekonomik katkıları ülke ekonomisine olumlu yansır. |

| Olumsuz Sonuçlar | Ayrıldığı Ülke Açısından | Gittiği Ülke Açısından |
|-----------------------------|---|--|
| Beyin Gücü Kaybı | Yetişmiş bilim insanlarını kaybetmek, bilimsel üretkenliği azaltır. | Entegrasyon süreci uzun ve maliyetli olabilir, bu da toplumsal gelişimlere neden olabilir. |
| Eğitim Yatırımlarının Kaybı | Bilim insanına yapılan eğitim ve gelişim yatırımları başka ülkelere fayda sağlar. | Yabancı bilim insanlarının ülkeye gelmesi, yerel bilim insanları ve araştırmacılar için rekabeti artırabilir. |
| Yenilik ve Ar-Ge Eksikliği | Bilimsel yenilikler ve Ar-Ge çalışmaları yavaşlayabilir. | Yeni gelen bilim insanlarına yönelik eğitim, barınma ve diğer sosyal hizmetler için önemli kaynaklar ayırmak zorunda kalınabilir. |
| Ekonomik Maliyet | Beyin göçü nedeniyle ekonomik kayıplar yaşanabilir. | Yabancı yeteneklere aşırı bağımlılık, ülkenin kendi bilimsel ve teknolojik altyapısını zayıflatabilir. |
| Ulusal Prestij Kaybı | Başarılı bilim insanlarının göç etmesi, ulusal prestijini olumsuz etkileyebilir. | Başka ülkelerden gelen yetenekler, kendi ülkelerine geri dönerse beyin göçü alan ülke sürekli bir beyin göçü döngüsü içinde kalabilir. |



Çıkmış Soru 1

Ulusal ve uluslararası göçlerin çoğunluğu büyük kentlere doğru olmaktadır. Büyük kentlerdeki mevcut iş imkânları, sosyokültürel faaliyetler ve daha yüksek hayat standartları, göçleri yönlendiren faktörlerin başında gelmektedir. Bununla birlikte göçe katılan bireylerin çoğu bu faaliyetlerin ancak küçük bir kısmından faydalanabilmekte ve göçler nedeniyle şehirlerde çeşitli sorunlar da yaşanabilmektedir.

Aşağıdakilerden hangisi bu sorunlardan biri değildir?

- Altyapı yatırımlarına duyulan ihtiyacın artması
- Yerleşme amacıyla boş olan kamu arazilerinin kullanıma açılması
- Sanayi ve ticaret sektöründe iş gücü olanaklarının artması
- Sanayi alanları ile limanların yakın çevresinin yerleşmeye açılması
- Kentsel dönüşüm ve kentsel yenileme gibi projelere duyulan ihtiyacın artması

(2017)

Sanayi ve ticaret sektöründe iş gücü olanaklarının artması bir sorun değildir. Aksine olumlu bir gelişmedir.

Cevap C



Çıkmış Soru 2

Coğrafi Keşiflerden sonraki süreçte aşağıdaki kıtaların hangisinden diğerine daha fazla insan göç etmiştir?

- Afrika'dan Avrupa'ya
- Avustralya'dan Afrika'ya
- Afrika'dan Asya'ya
- Asya'dan Avustralya'ya
- Avrupa'dan Amerika'ya

(2016)

Coğrafi keşiflerden sonra özellikle Avrupa'dan Amerika'ya göçler yaşanmıştır. Bu göçlere Yeni Dünya'ya yapılan göçler de denir.

Cevap E

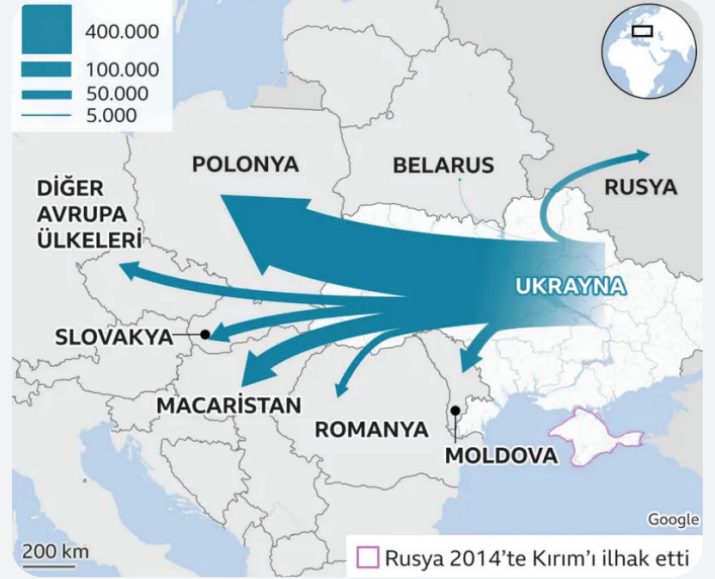
Etkinlik 2

2022 -2024 yılları arasında Ukrayna'dan büyük bir göç dalgası yaşandı. Bu göçün başlıca nedenleri arasında, ülkedeki siyasi istikrarsızlık ve Rusya ile yaşanan çatışmalar önemli rol oynadı. Özellikle Kırım'ın ilhaki ve Donbass bölgesindeki çatışmalar, insanların güvenlik endişelerini artırdı ve yaşam koşullarını olumsuz etkiledi. Ekonomik zorluklar da göçü tetikleyen faktörler arasında yer aldı; işsizlik oranları yüksek seyretti ve ekonomik belirsizlikler sürdü. Bu göç dalgası, Ukrayna'nın aynı zamanda beyin göçü yaşamasına da yol açarak ülkenin nitelikli iş gücünü kaybetmesine neden oldu.

Ukraynalı mülteciler, büyük ölçüde batıdaki Polonya, Romanya, Slovakya, Macaristan ve Moldova gibi komşu ülkelere gidiyor. Az sayıda kişinin de Rusya ve Belarus'a sığındığı belirtiliyor.

BM'ye göre bu ülkelerin kabul ettiği mülteci sayıları şöyle:

- Polonya 1.028.000
- Macaristan 180.000
- Moldova 83.000
- Slovakya 128.000
- Romanya 79.000
- Rusya 53.000
- Belarus 406



Bu göç hareketinin Ukrayna için itici ve çekici etmenlerini aşağıdaki kutucuklarda ilgili yere yazınız.

Ukrayna'dan Göçün Nedenleri (İtici Faktörler)

Savaş

- Güvenlik sorunu
- Ekonomik zorluklar
- Siyasi istikrarsızlık

Ukrayna'dan göç edilen ülkelerdeki çekici faktörler

İş olanakları

- Güvenli yaşam ortamı
- Benzer kültürel ortamlar
- Eğitim olanakları

1. Verilen haritaya göre en fazla göç edilen ülke hangisidir? Neden?

Polonya, Çünkü coğrafi yakınlık ve savaş ortamının olmaması

2. Ukrayna'dan Türkiye'ye göç eden insanlar olmuş mudur? Olmuşsa bu insanlar için Türkiye'deki çekici faktörler nelerdir?

Türkiye'ye Ukrayna'dan gelen insanlar çok sayıdadır. İş olanakları ve güvenli yaşam ortamı etkili olmuştur.

3. Ukrayna örneğinde olduğu gibi dünyanın başka hangi bölgelerinde savaşlar ve çatışmalar nedeniyle göçler yaşanmaktadır?

Filistin, Suriye, Venezuela, Afrika'daki bazı ülkelerde savaş ve iç çatışmalar nedeniyle göçler olmaktadır.

İşçi Göçleri

- II. Dünya Savaşı'ndan sonra özellikle Almanya ve Fransa gibi Avrupa ülkeleri yıkılan ekonomilerini tekrar canlandırmak için 1950'li yıllardan itibaren ciddi bir kalkınma hamlesi başlattılar.
- Ancak aktif nüfuslarının önemli bir kısmını savaşta kaybeden Avrupa ülkelerinin bu süreçte iş gücü açığı bulunuyordu.
- Bu nedenle özellikle 1950 - 1960 yılları arasında, Fransa'ya eski sömürge ülkeleri olan Cezayir, Fas ve Tunus gibi Kuzey Afrika ülkelerinden, İngiltere'ye Hindistan'dan, Almanya'ya ise Türkiye'den yüzbinlerce insan çalışmak için göç ettiler.

Doğal Afetlerin Neden Olduğu Göçler

- Kazakistan ve Özbekistan sınırında yer alan Aral Gölü'nün kuruması, göçlere neden olmakta ve gelecekte bu göçlerin artacağı da beklenmektedir.
- 2004 yılında Hint Okyanusu'nda meydana gelen tsunami felaketinin ardından bölgede yer alan Sri Lanka, Endonezya ve Tayland gibi ülkelerde yaşayan yüzbinlerce insan ülkelelerinin iç kesimlerine göç etmiştir.
- 2010 yılında Karayip Denizi'nde yer alan ada ülkelerinden biri olan Haiti'de meydana gelen depremde yaklaşık 1 milyon insan evsiz kalmıştır. Daha sonra bu insanlar komşu ülkelere biri olan Dominik Cumhuriyeti'nde kurulan çadır kentlere göç etmişlerdir.

Göç Türleri (Göçlerin Sınıflandırılması)

Göçler; sürekliliğine, sınır aşma durumuna ya da istek kriterine göre çeşitli şekillerde sınıflandırılabilir.

Etkinlik 3

Aşağıda göçlerin sınıflandırılmasıyla ilgili bir kavram haritası verilmiştir. Boş bırakılan yerleri bir örnek vererek doldurunuz.



Etkinlik 4

Aşağıda Suriye'den Türkiye ve çevre ülkelere yapılan göçlerle ilgili bir metin verilmiştir.

2011 yılında Suriye'de başlayan iç savaş, büyük bir mülteci akınına yol açtı ve bu durum özellikle Türkiye ve çevre ülkeleri etkiledi. Mültecilerin yoğun göçü, bölgedeki mevcut kaynakları ve altyapıyı zorladı. Türkiye, Suriyeli mültecilere sıcak bir karşılama gösterdi ve onlara barınma imkânları sağladı. Ancak bu durum, bazı bölgelerde iş gücü piyasasında rekabeti artırdı ve yerel halkla kaynak paylaşımı konusunda gerilimlere yol açtı. Mültecilerin yoğunluğu, bazı alanlarda altyapı sorunlarına ve doğal kaynakların aşırı tüketimine neden oldu. Suriyeli mültecilerin entegrasyonu, kültürel ve dilsel farklılıklar nedeniyle bazı zorluklarla karşılaştı. Siyasi olarak, mültecilerin varlığı yerel ve uluslararası politikaları etkileyebilir ve bölgesel istikrar üzerindeki etkilerini artırabilir. Savaşın devam etmesi ve mülteci krizinin uzun vadeli etkileri, bölgedeki dengeleri ve toplumsal yapıyı daha da derinlemesine etkileyebilir.

Yapılan bu göçlerin sonuçlarını aşağıdaki kutucuklara yazınız.

| | |
|-------------------|--|
| Siyasi Sonuçlar | <i>Ülkeler arasında anlaşmazlıklara yol açması</i> |
| Ekonomik Sonuçlar | <i>Türkiye ve diğer mülteci göçü alan ülkeler ekonomik olarak zorlandı</i> |
| Sosyal Sonuçlar | <i>Toplumlar arasında kültür çatışmaları meydana geldi</i> |
| Çevresel Sonuçlar | <i>Çevredeki doğal kaynakların tükenmesi ve çevre bozulmaları</i> |

Metinde ifade edilen göçlerin asıl sebebi nedir?

Siyasi baskılar ve iç çatışmalar

Göçün Mekânsal Etkileri

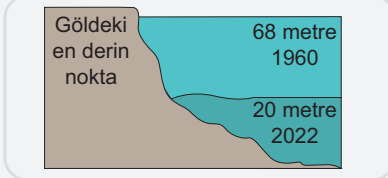

- Türkiye'de göç olaylarının neden olduğu sonuçları, göç alan yerlerdeki ve göç veren yerlerdeki mekânsal etkiler olmak üzere iki farklı grupta incelemek gerekir.

| Göç Alan yerlerdeki Mekansal Etkiler (Şehirler) | Göç Veren yerlerdeki Mekansal Etkiler (Köyler) |
|--|---|
| Plansız yapılaşma ve çarpık kentleşme | Okul ve sağlık Ocağı gibi kamu kurumlarının kullanılmaz hâle gelmesi |
| Sanayi tesislerinin şehir içinde kalması | Meskenlerin ve eklentilerinin bakımsızlık nedeniyle harabe hâline gelmesi |
| Çevre sorunlarının yaşanması | Tarımsal üretimin azalması |
| Orman alanlarının yerleşime açılması | Tarlaların boş kalması |
| Trafik sorunlarının artması | |
| Alt ve üst yapıda yetersizliklerin ortaya çıkması | |
| Kültür çatışmalarının ve asayiş sorunlarının artması | |

Etkinlik 5

Aşağıda iki farklı basın haberi verilmiştir.

I. Uluslararası Aral Gölü'nü Kurtarma Fonu Kurucu Ülkelerinin Devlet Başkanları Konseyinin Tacikistan'da düzenleyeceği toplantı, gölün kurumasıyla ortaya çıkan, Orta Asya'nın en büyük çevre felaketini yeniden gündeme getirdi.



Daha önce dünyanın dördüncü büyük gölü olarak bilinen ve Özbekistan ile Kazakistan arasında bulunan Aral Gölü, 2020 yılında eski kıyılarından 170 kilometreye kadar geri çekilirken suların çekildiği 60 bin kilometrekarelik alanda "dünyanın en genç çölü" olarak nitelendirilen Aralkum Çölü meydana geldi.

Eski Sovyetler Birliği döneminde, Aral Gölü'nü besleyen Seyhun (Siriderya) ve Ceyhun (Amuderya) ırmaklarının sularının büyük kısmının pamuk tarlalarına akıtılması sonucu 1960'lı yıllardan bu yana kurumaya başlayan Aral Gölü'nün yüz ölçümü 9 kat küçülürken suyun seviyesi 3 kat, su hacmi ise 15 kat azaldı.

1960'lı yıllarda Aral Gölü'nün kıyısındaki balıkçı kasabası Moynak'ta, tarım arazilerinin büyük oranda tuzlanması ve gölün kıyılarının 100 kilometreden fazla geri çekilmesi yüzünden tarım ve balıkçılık zarar gördü, daha iyi yaşam koşulları arayışına giren halkın bir kısmı ise diğer bölgelere göç etti.

II. Yanardağ patlaması 10.000 kişiyi göçe zorladı.

Endonezya hükümeti, Ruang Volkanın'da yaşanan ardışık patlamalar sonrasında bölgedeki 10.000 kişiyi kalıcı olarak taşıyacağını duyurdu.

Volkanın alarm durumu en yüksek seviyeye çıkartıldı. Endonezya hükümetinden bir yetkili, Cuma günü yapılan kabine toplantısında birinci gündemin Ruang Dağı olduğunu belirttikten sonra toplantıda Ruang Dağı çevresinde yaşayanlar için Bolaang Mongondow bölgesinde yüzlerce "basit ama kalıcı" evin inşa edilmesi ve bölge halkının buraya taşınması yönünde karara varıldığını söyledi.

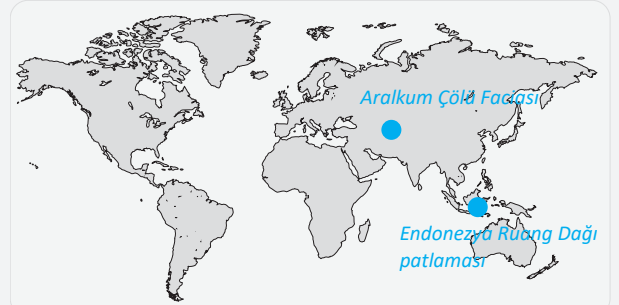
1. Verilen basın haberlerindeki göçlerin ortak nedeni nedir?

Çevresel bozulmaların meydana gelmesi

2. Basın haberlerinin hangisinde meydana gelen göçlerde insan etkisinin daha fazla olduğu söylenebilir? Bu nedeni yazarak açıklayınız.

1. haberde Aral Gölü'nü besleyen akarsuların yanlış kullanımı göçlere neden olmuştur.

3. Göçlere neden olan bu felaketlerin yaşandığı alanları aşağıdaki haritada yuvarlak içine alıp, Aralkum Çölü Faciası ve Endonezya Ruang Dağı patlaması olarak belirtiniz.



4. Haberlerdeki göç nedenleri dikkate alındığında Türkiye'de bu göçler yaşanabilir mi? Açıklayınız.

Kuraklık nedeniyle suların azalması Türkiye'de göçlere neden olabilir



Çıkış Soru Cevap Anahtarı

1.C 2.E

1. 2018-2022 yılları arasında Venezuela'dan büyük bir göç dalgası yaşanmıştır. Bu göçün başlıca nedenlerinden biri, ülkenin derinleşen ekonomik krizidir. ABD'nin uyguladığı ambargo ve iç ekonomik politikaların bir sonucu olarak, ülkede hiperenflasyon, işsizlik ve yoksulluk büyük ölçüde artmıştır. Bu ekonomik zorluklar, temel gıda maddeleri ve ilaçların yetersizliğine yol açmış, halkın yaşam koşullarını zorlaştırmıştır. Siyasi baskılar ve hükümetin muhalefet üzerindeki kontrolü, politik istikrarsızlık yaratarak insanların güvenliğinden endişe etmelerine sebep olmuştur. Ayrıca, artan suç oranları ve güvenlik sorunları, Venezuelalıların can güvenliği endişesiyle başka ülkelere göç etmelerine neden olmuştur.

Göç edenlerin büyük bir kısmı komşu Latin Amerika ülkelerine sığınmış, bu da bölgedeki ülkeler üzerinde ekonomik ve sosyal baskılar yaratmıştır. Göçmenler, gittikleri ülkelerde iş gücü piyasasında rekabeti artırarak yerel halk için ekonomik zorluklara neden olmuştur. Ancak, Venezuelalı göçmenler aynı zamanda gittikleri ülkelerde iş gücü açığını kapatarak ekonomik katkıda bulunmuşlardır. Göç edenlerin bir kısmı, eğitilmiş ve nitelikli iş gücünden oluştuğu için, Venezuela'nın kendi beyin gücünü kaybetmesine yol açmıştır. Uzun vadede, bu göç dalgası, hem Venezuela'nın içindeki hem de bölgedeki demografik ve ekonomik dinamikleri değiştirmiştir. Göçmenlerin yeni ülkelerde entegrasyonu, kültürel çeşitliliği artırmış, ancak sosyal uyum sorunlarını da beraberinde getirmiştir.

Yukarıdaki parçaya göre Venezuela'da meydana gelen göçlerdeki itici faktörler nelerdir? Yazınız.

Siyasi istikrarsızlık ve ekonomik sorunlar

Venezuela'dan yaşanan göçlerin sonuçları nelerdir? Açıklayınız.

Venezuela'dan göçler, hem göç alan ülkelerde ekonomik ve sosyal baskılar yaratmış hem de Venezuela'nın beyin göçü ve demografik yapısında kalıcı değişikliklere yol açmıştır.

2. Venezuela'nın dışarıya en fazla göç verdiği ülkelere ait tablo ve bir harita aşağıda verilmiştir.

| Sıra | Ülke | Göç (Kişi) |
|------|-----------|------------|
| 1 | Kolombiya | 2.477.588 |
| 2 | Peru | 1.518.102 |
| 3 | Ekvador | 512.214 |
| 4 | ABD | 480.116 |
| 5 | Brezilya | 449.530 |
| 6 | Şili | 444.223 |
| 7 | Arjantin | 220.595 |
| 8 | Meksika | 177.987 |
| 9 | İspanya | 169.549 |
| 10 | Panama | 147.424 |



Venezuela'nın bu süreçte en fazla göç verdiği ilk 3 ülkeyi haritada boyayıp ülkelerin adlarını yazınız.

Avrupa kıtasında en fazla hangi ülkeye göç vermiştir? Venezuela'dan bu ülkeye bir ok çıkartarak göç yolunu çiziniz.

Venezuela'dan Afrika kıtasına göç edilmemiş olması nasıl açıklanabilir?

Afrika'da iş olanakları bulunmadığından göç edilmemiştir

3. Göç edenler, geldikleri yerlere yaşadıkları yerlerin kültürünü de taşımaktadırlar. Böylece birçok kültür bir araya gelmekte ve bu kültürler arasında etkileşim gerçekleşmektedir.



Bu etkileşimin haritadaki numaralandırılmış alanların hangileri arasında daha fazla görüldüğü söylenebilir?

- A) I ve II B) I ve III C) I ve IV
D) II ve III E) III ve IV

4. 2000 yılından itibaren Çin'den Afrika kıtasına göçler özellikle Angola, Nijerya, Kenya, Güney Afrika ve Zambiya gibi ülkelere yoğunlaşmıştır. Bu göçlerin temel nedenleri arasında bu ülkelerdeki büyük altyapı projeleri, madencilik faaliyetleri ve enerji yatırımları bulunmaktadır. Çinli şirketler, bu ülkelerdeki projelerde çalışmak üzere Çinli işçileri ve mühendisleri getirmişlerdir. Çin-Afrika ticaret ve diplomatik ilişkilerinin güçlenmesi de göçleri teşvik etmiştir. Göçlerin sonuçları arasında, Çinli göçmenlerin yerel ekonomilere katkıları ve yeni iş fırsatları yaratmaları önemli yer tutmaktadır. Aynı zamanda, bu göçler kültürel etkileşimi artırmış ve iki bölge arasındaki bağları güçlendirmiştir. Ancak, bazı bölgelerde yerel halk ile Çinli göçmenler arasında gerilimler ve sosyal uyum sorunları da yaşanmıştır.

Yukarıdaki metne göre Çin'den Afrikaya yapılan göçlerin nedenleri nelerdir?

Çinli şirketlerin ekonomik açılımları ve maden arama faaliyetleri

Bu göçlerin olumlu ya da olumsuz etkileri nelerdir?

Ekonomik yapıyı olumlu etkilemiş ancak sosyal uyum sorunları yaşanmıştır.

Çin'den en fazla hangi Afrika ülkelerine göçler olmuştur?

Angola, Nijerya, Kenya, Güney Afrika ve Zambiya

5. Dördüncü soruda verilen parçadan yola çıkarak Çin'den Afrika'ya yapılan göçleri Çin ile bu ülkeleri birleştiren oklar çizerek aşağıdaki haritada gösteriniz.



6. ● Filipinler'in Tacloban şehrine ulaşan Haiyan tayfunu büyük çapta can ve mal kaybına yol açarak binlerce kişiyi evsiz bıraktı. Bu doğal afet, yerel halkın diğer bölgelere ve başkent Manila'ya göç etmesine neden oldu.
- Haiti'de meydana gelen büyük deprem, başkent Port-au-Prince ve çevresinde yıkıma sebep oldu. Deprem, yüz binlerce kişinin evlerini kaybetmesine ve ülke içindeki göçlere neden oldu.
- 2010 yılında Pakistan'da yaşanan şiddetli seller, milyonlarca insanın evlerini terk etmesine yol açtı. Seller, tarım arazilerini ve altyapıyı büyük ölçüde etkileyerek göç dalgalarına sebep oldu.
- Kaliforniya'da 2020'de yaşanan şiddetli orman yangınları, binlerce evin ve işyerinin zarar görmesine neden olarak yerel halkın başka bölgelere tahliye edilmesine yol açtı. Bu yangınlar, bölgesel göçleri artırdı.

Yukarıda verilen göçlerin genel ortak özelliği nedir?

Doğal afete bağlı göçler olması

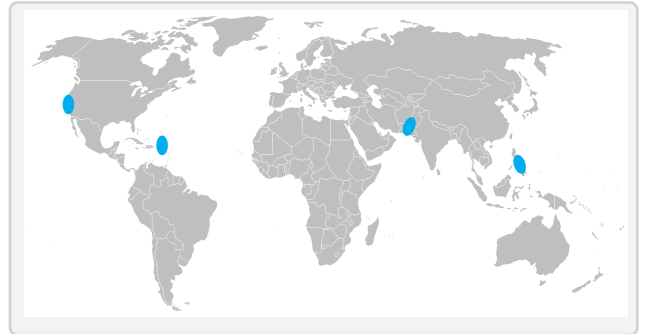
Göçler bu ülke ve bölgelerin ekonomisini nasıl etkilemiş olabilir?

olumsuz etkilemiştir

Pakistan ve Filipinler'de göçlere neden olan olayların iklim koşullarıyla nasıl bir ilgisi vardır?

Muson ikliminin etkisiyle meydana gelen tayfun ve seller göçlere yol açmıştır

Bu göçlerin yaşandığı ülkeleri ve bölgeleri aşağıdaki haritada boyayarak gösteriniz.



Cevap Anahtarı

3.A