



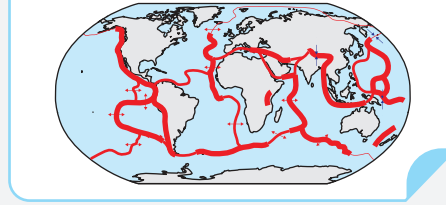
## Etkinlik-1

Aşağıda numaralanmış haritalarla ilgili soruları cevaplandırınız.

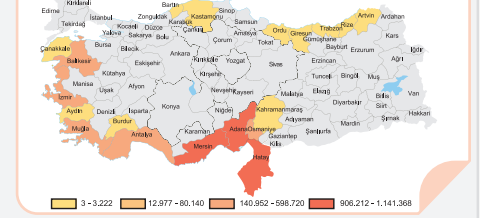
1 Gap Kapsamında Bulunan İller Haritası



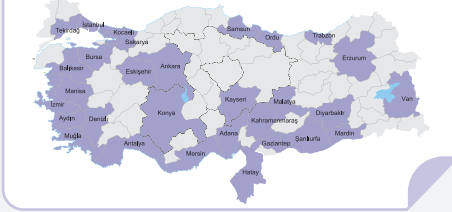
2 Dünya Deprem Haritası



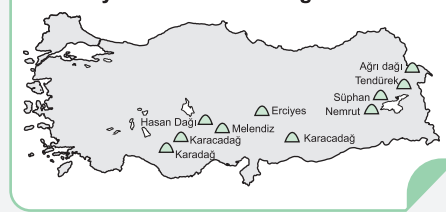
3 Turunçgiller Üretim Haritası



4 Türkiye'deki Büyükşehirlere Haritası



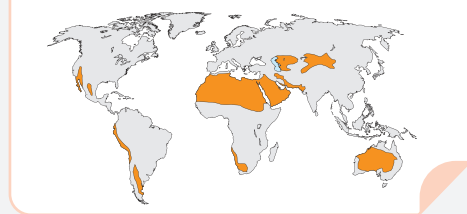
5 Türkiye'deki Volkanik Dağlar Haritası



6 Türkiye'deki Kara Yollarının Oluşturduğu Bölgeler



7 Dünya'daki Çöller Haritası



8 Türkiye'deki Maki Bitki Örtüsü Haritası



Kaç numaralı haritalar doğal şekilsel bölgeler içinde yer alır.

2, 5, 7 ve 8

Kaç numaralı haritalar beşeri şekilsel bölgeler içinde yer alır.

3

Kaç numaralı haritalar işlevsel bölgeler içinde yer alır.

1, 4 ve 6

Kaç numaralı haritalarla gösterilen bölgelerin sınırı kısa sürede değişir.

1, 3, 4 ve 6

Kaç numaralı haritalarla gösterilen bölgelerin sınırı uzun sürede değişir.

2, 5, 7 ve 8

Kaç numaralı haritalarla gösterilen bölgelerin sınırı Akdeniz iklim bölgesinin sınırları ile çakışır.

3 ve 8

## Etkinlik-2

Bölge kavramı ile ilgili aşağıda verilen yargılardan doğru olanı takip edildiğinde kaç numaralı çıkışa ulaşılır.

