



## Etkinlik-1

Atlasınızdan yararlanarak aşağıda verilen haritada gösterilen kıta ve okyanusların adlarını boş bırakılan yerlere yazınız.



## Etkinlik-2

Atlasınızdan yararlanarak aşağıda verilen haritada gösterilen numaralandırılan bölgelerin adlarını boş bırakılan yerlere yazınız.

(Arap Yarımadası, Kongo Havzası, Karayipler, İber Yarımadası, Sibirya, Alaska, İskandinavya, Madagaskar, Kore Yarımadası, Amazon, Hint Yarımadası, Büyük Sahra, Grönland, Tibet, Gine Körfezi, Yeni Zelanda)



1 Alaska

2 Grönland

3 Karayipler

4 Amazon

5 İskandinavya

6 İber Yarımadası

7 Büyük Sahra

8 Kongo Havzası

9 Madagaskar

10 Gine Körfezi

11 Arap Yarımadası

12 Sibirya

13 Tibet

14 Hint Yarımadası

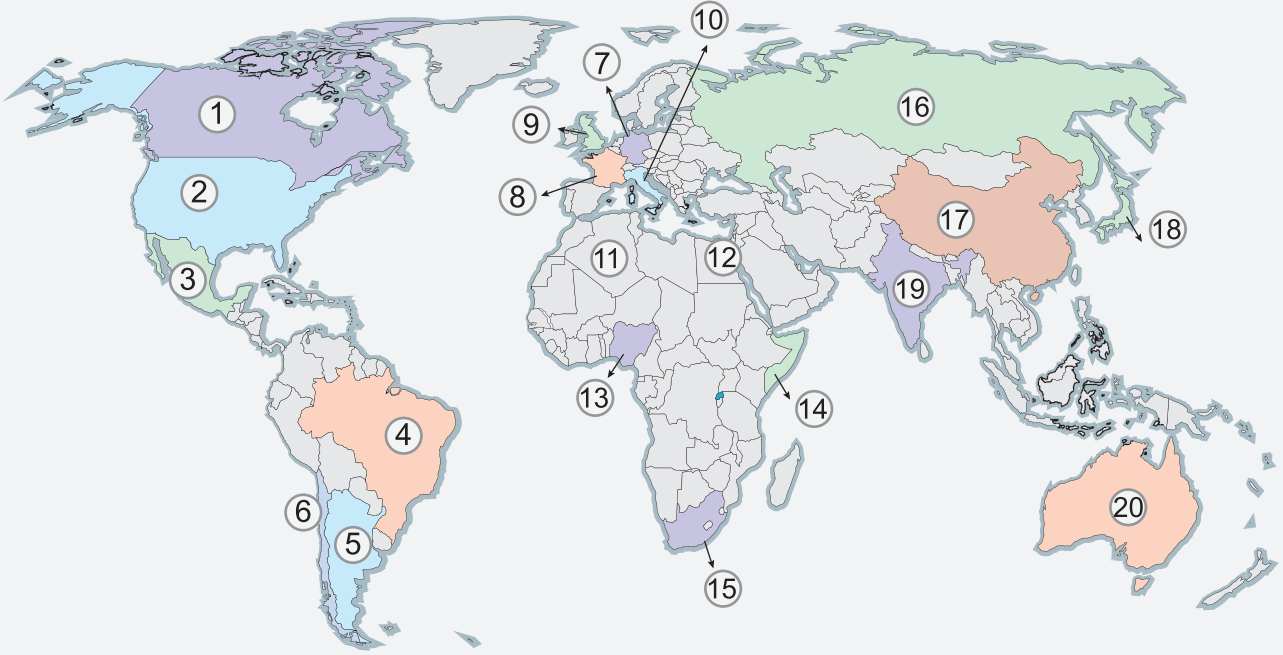
15 Kore Yarımadası

16 Yeni Zelanda



## Etkinlik-3

Atlasınızdan yararlanarak aşağıdaki haritada numaralandırılan ülkelerin adlarını yazınız.



1 Kanada

2 ABD

3 Meksika

4 Brezilya

5 Arjantin

6 Şili

7 Almanya

8 Fransa

9 İngiltere

10 İtalya

11 Cezayir

12 Mısır

13 Nijerya

14 Somali

15 Güney Afrika Cumhuriyeti

16 Rusya

17 Çin

18 Japonya

19 Hindistan

20 Avustralya

## Etkinlik-4

Aşağıdaki haritada numaralandırılarak gösterilen bölgelerin adlarını yazınız.

(Biga Yarımadası, Çukurova, Hakkari Çevresi, Harran Ovası, Tuz Gölü, Menteşe Yöresi, Göller Yöresi, Doğu Karadeniz, Ergene Havzası, Yıldız Dağları, Taşeli Platosu, Erzurum-Kars, Van Gölü, Batı Karadeniz, Teke Platosu)



1 Ergene Havzası

2 Yıldız Dağları

3 Biga Yarımadası

4 Menteşe Yöresi

5 Teke Platosu

6 Göller Yöresi

7 Taşeli Platosu

8 Çukurova

9 Tuz Gölü

10 Batı Karadeniz

11 Doğu Karadeniz

12 Erzurum - Kars

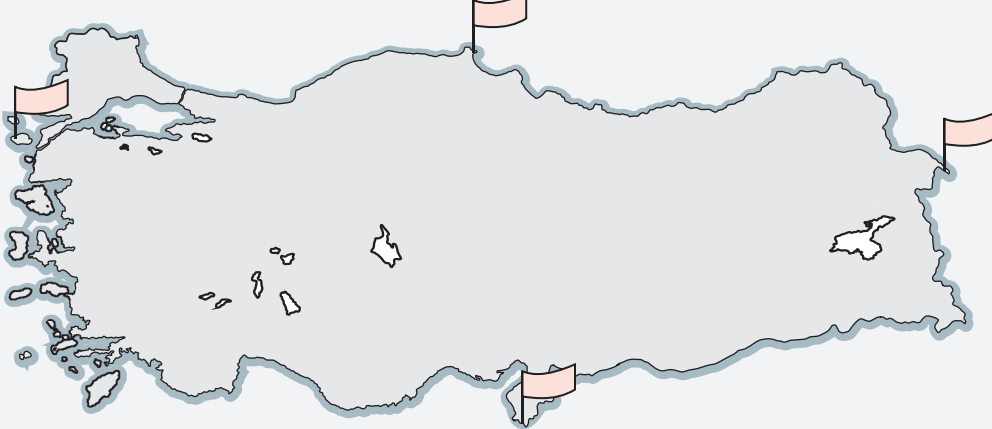
13 Van Gölü

14 Harran Ovası

15 Hakkari Çevresi

## Etkinlik-5

Aşağıdaki haritada gösterilen Türkiye'nin en uç noktaları ve bulunduğu illeri yazınız.



Doğu Dil ucu - İğdır

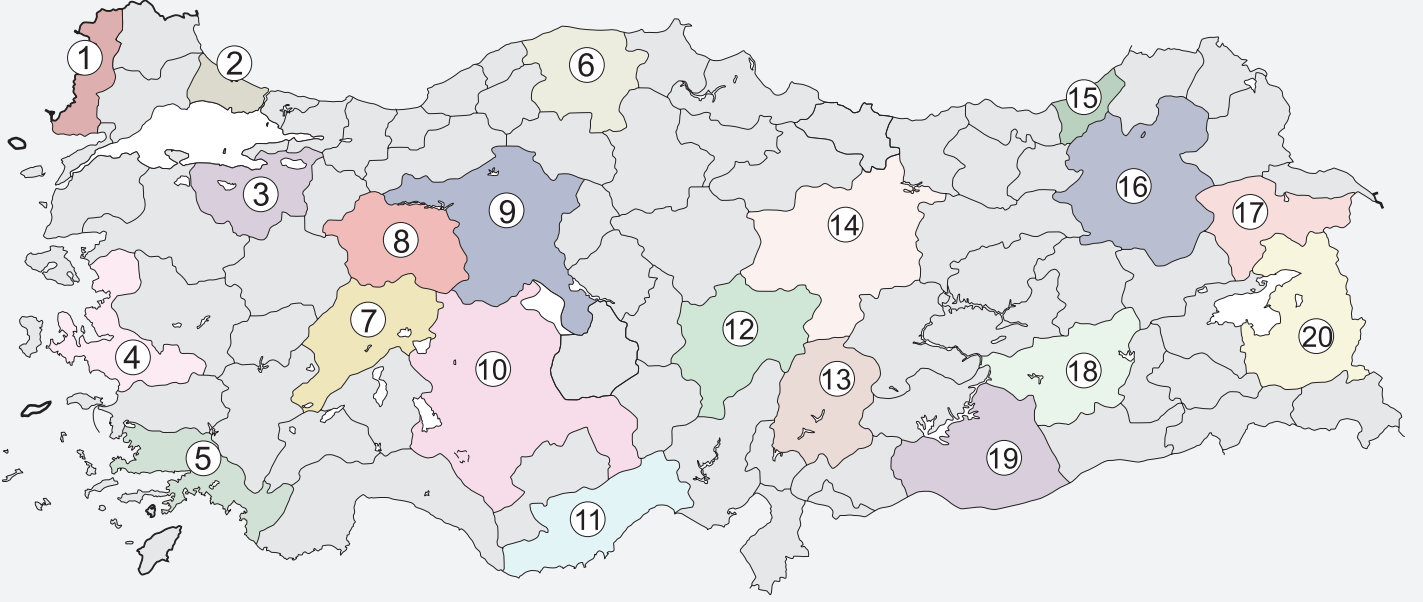
Batı Avlaka Burnu (Gökçeada) - Çanakkale

Kuzey İnce Burun - Sinop

Güney Beysun Köyü - Hatay

## Etkinlik-6

Atlasınızdan yararlanarak aşağıdaki haritada numaralandırılan illerin adlarını yazınız.



1 Edirne

2 İstanbul

3 Bursa

4 İzmir

5 Muğla

6 Kastamonu

7 Afyonkarahisar

8 Eskişehir

9 Ankara

10 Konya

11 Mersin

12 Kayseri

13 Kahramanmaraş

14 Sivas

15 Rize

16 Erzurum

17 Ağrı

18 Diyarbakır

19 Şanlıurfa

20 Van