



9. SINIF COĞRAFYA YAZILIYA HAZIRLIK ÇALIŞMALARI - 2

Adı Soyadı:

Sınıfı :

Numarası :

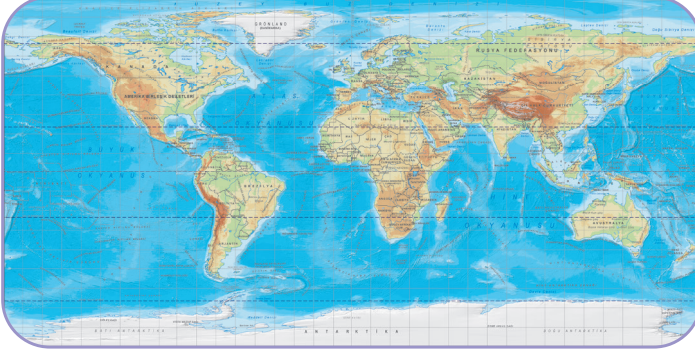
Puan :

1. Haritanın bileşenlerini yazınız.

Başlık,
Ölçek,
Yön oku,
Lejant (harita işaretleri),
Coğrafi, koordinatları,
Çerçeve

2. Aşağıda verilen haritaları birbiri ile karşılaştırınız.

(Ölçek, bozulma oranı, gösterdiği alan, ayrıntı gösterme gücüne göre)



Ölçeği küçüktür.
Bozulma oranı fazladır.
Gerçekte gösterdiği alan büyüktür.
Ayrıntı azdır.

Ölçeği büyüktür.
Bozulma oranı azdır.
Gerçekte gösterdiği alan küçüktür.
Ayrıntı fazladır.

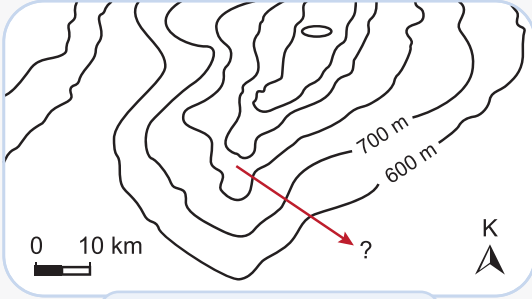
3. Projeksiyon çeşitleri ve bu projeksiyonla haritası çizilebilecek ülkelere ikişer tane örnek yazınız.

Silindirik Projeksiyon: Brezilya, Nijerya
Konik Projeksiyon: Türkiye, İtalya
Düzlem Projeksiyon: Kanada, Norveç

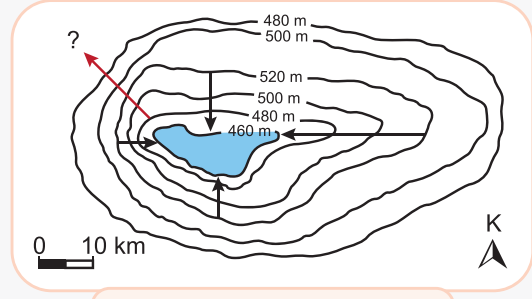
4. Eş yükselti eğrilerinin özelliklerinden 5 tanesini yazınız.

- İç içe geçmiş kapalı eğrilerdir.
- İzohipsler dağ doruklarında nokta halini alır.
- İzohipsler birbirini kesmez.
- Bir izohips noktası üzerinde noktaların yükseltileri aynıdır.
- İzohipslerin sıklaştığı yerlerde eğim artar.

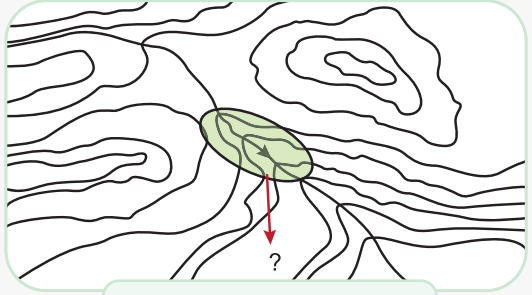
5. Aşağıda izhipslerle gösterilen yer şekillerinin adlarını yazınız.



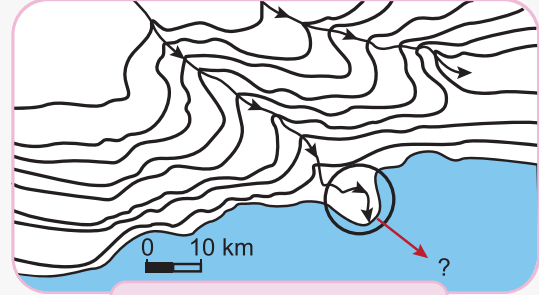
Sirt



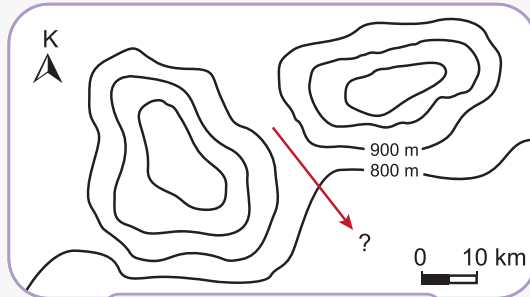
Kapalı çukur (çanak)



Vadi - Akarsu



Delta



Boyun